

## REET LEVEL-1 (17.1.26) – Answer Key

1. "वन की आशा" किस नदी को कहा जाता है?

- (A) कांतली नदी  
(B) काकनी नदी  
(C) बनास नदी  
(D) सरस्वती नदी  
(E) अनुत्तरित प्रश्न

2. सूची I को सूची II से सुमेलित करें:

सूची I	सूची II
(a) आचार्य नानेश मुनि	(i) अणुव्रत आंदोलन
(b) आचार्य तुलसी	(ii) रूपायन संस्था
(c) कोमल कोठारी	(iii) जयपुर फुट
(d) डॉ. पी. के. सेठी	(iv) समता दर्शन

नीचे दिए गए विकल्पों में से सबसे उपयुक्त उत्तर चुनें:

- (A) (a)-(iv), (b)-(i), (c)-(ii), (d)-(iii)  
(B) (a)-(iv), (b)-(ii), (c)-(i), (d)-(iii)  
(C) (a)-(i), (b)-(ii), (c)-(iii), (d)-(iv)  
(D) (a)-(iv), (b)-(iii), (c)-(ii), (d)-(i)  
(E) अनुत्तरित प्रश्न

3. राजस्थान में बिजौलिया किसान आंदोलन से संबंधित निम्नलिखित घटनाओं को कालक्रमानुसार व्यवस्थित करें।

- (a) आंदोलन के नेता के रूप में जमनालाल बजाज  
(b) राजपूताना में गवर्नर जनरल के एजेंट सहित भारत सरकार द्वारा उच्च शक्ति प्राप्त समिति की नियुक्ति  
(c) आंदोलन के नेता के रूप में विजय सिंह पथिक  
(d) साधु सीताराम दास के नेतृत्व में ज्ञापन  
(e) तलवार बंधाई लाग की आड़ में कुछ नवीन कर

- नीचे दिए गए विकल्पों में से सबसे उपयुक्त उत्तर चुनें:  
(A) (b), (d), (c), (e), (a)  
(B) (d), (c), (b), (a), (e)  
(C) (a), (b), (c), (d), (e)  
(D) (e), (d), (c), (b), (a)  
(E) अनुत्तरित प्रश्न

4. सूची I को सूची II से सुमेलित करें:

सूची I	सूची II
(a) लहरिया पगड़ी	(i) विवाह
(b) मोठड़ा पगड़ी	(ii) होली
(c) मदील पगड़ी	(iii) सावण/श्रावण
(d) अलंकृत छपाई पगड़ी	(iv) दशहरा

नीचे दिए गए विकल्पों में से सबसे उपयुक्त उत्तर चुनें:

- (A) (a)-(iii), (b)-(i), (c)-(iv), (d)-(ii)  
(B) (a)-(iv), (b)-(ii), (c)-(i), (d)-(iii)  
(C) (a)-(ii), (b)-(i), (c)-(iv), (d)-(iii)  
(D) (a)-(i), (b)-(iii), (c)-(iv), (d)-(ii)  
(E) अनुत्तरित प्रश्न

5. कौनसे कथन 'फड़ साहित्य' से संबंधित है ?

- (a) टोंक और जयपुर इसके लिए प्रसिद्ध हैं।  
(b) पाबूजी, देवनारायण जी आदि लोक देवताओं के जीवन से कहानियों का निरूपण किया जाता है।  
(c) पद्म श्री लाल जोशी ने इसे अंतरराष्ट्रीय पहचान दी है।  
(d) नुरूद्दीन द्वारा चित्रित 'कालिया दमन' फड़ चित्रण का सबसे प्रसिद्ध उदाहरण है।

नीचे दिए गए विकल्पों में से सबसे उपयुक्त उत्तर का चयन कीजिए:

- (A) केवल (A) और (D)  
(B) केवल (B) और (D)  
(C) केवल (A) और (C)  
(D) केवल (B) और (C)  
(E) अनुत्तरित प्रश्न

6. 15 अगस्त 2025 को कहाँ पर आयोजित स्वतंत्रता दिवस समारोह में दिव्यांश एम. भारद्वाज को "राजस्थान का सर्वश्रेष्ठ सरपंच" का पुरस्कार दिया गया था ?

- (A) जैसलमेर दुर्ग  
(B) मेहरानगढ़ दुर्ग  
(C) आमेर दुर्ग  
(D) कुंभलगढ़ दुर्ग  
(E) अनुत्तरित प्रश्न

7. नीचे दो कथन दिए गए हैं: एक अभिकथन A (Assertion A) के रूप में लिखित है तो दूसरा उसके कारण R (Reason R) के रूप में।

अभिकथन A :

खेजड़ी वृक्ष ने भी चिपको आंदोलन को प्रेरित किया था।

कारण R :

अमृता देवी के नेतृत्व में लगभग 363 पुरुषों और महिलाओं ने खेजड़ी की रक्षा करते हुए अपने प्राणों का बलिदान दिया था।

## REET LEVEL-1 (17.1.26) – Answer Key

उपरोक्त कथनों के आलोक में, नीचे दिए गए विकल्पों में से सबसे उपयुक्त उत्तर का चयन कीजिए:

(A) A सही है लेकिन R सही नहीं है।

(B) A सही नहीं है लेकिन R सही है।

**(C) A और R दोनों सही हैं और R, A की सही व्याख्या है।**

(D) A और R दोनों सही हैं लेकिन R, A की सही व्याख्या नहीं है।

(E) अनुत्तरित प्रश्न

8. सूची I को सूची II से सुमेलित करें :

सूची I	सूची II
(पर्यावरण पर्यटन स्थल)	(जिला)
(a) पीताम्बर की गाल/गाव्य	(i) बारां
(b) कुंड खोह	(ii) बलोत्रा
(c) सिवाणा	(iii) बूंदी
(d) भीमलाट	(iv) अजमेर

नीचे दिए गए विकल्पों में से सबसे उपयुक्त उत्तर चुनें:

(A) (a)-(iv), (b)-(ii), (c)-(iii), (d)-(i)

(B) (a)-(iv), (b)-(iii), (c)-(ii), (d)-(i)

(C) (a)-(iv), (b)-(i), (c)-(iii), (d)-(ii)

**(D) (a)-(iv), (b)-(i), (c)-(ii), (d)-(iii)**

(E) अनुत्तरित प्रश्न

9. भक्तिकाल की मुख्य विशेषताएँ हैं :

(a) भक्ति आंदोलन का प्रवर्तन भक्ति संतों द्वारा किया गया था।

(b) उन्होंने अपने उपदेशों से सभी प्रकार का भेदभाव समाप्त करने की कोशिश की थी।

(c) कुछ भक्ति संत राजाओं के चरित्र, गुणों और अन्य सराहनीय कार्यों का गुण वर्णन करते थे।

(d) निर्गुण संतों ने गुरु की महिमा एवं महत्व के बिना समस्त समय भगवान का स्मरण करने की महत्ता पर बल दिया।

नीचे दिए गए विकल्पों में से सबसे उपयुक्त उत्तर चुनें:

**(A) केवल (a), (b) और (d)**

(B) केवल (a), (c) और (d)

(C) केवल (a), (b) और (c)

(D) केवल (b), (c) और (d)

(E) अनुत्तरित प्रश्न

10. नीचे दो कथन दिए गए हैं: एक अभिकथन A (Assertion A) के रूप में लिखित है तो दूसरा उसके कारण R (Reason R) के रूप में।

अभिकथन A :

"अढ़ाई दिन का झोंपड़ा" नामक भवन मूलतः विग्रहराज IV द्वारा निर्मित संस्कृत पाठशाला थी।

कारण R :

यह भवन हिन्दू-इस्लामी वास्तुकला का नमूना है।

उपरोक्त कथनों के आलोक में, नीचे दिए गए विकल्पों में से सबसे उपयुक्त उत्तर का चयन कीजिए:

(A) A सही है लेकिन R सही नहीं है।

(B) A सही नहीं है लेकिन R सही है।

**(C) A और R दोनों सही हैं और R, A की सही व्याख्या है।**

(D) A और R दोनों सही हैं लेकिन R, A की सही व्याख्या नहीं है।

(E) अनुत्तरित प्रश्न

11. राजस्थान की सबसे अधिक प्रयुक्त की जाने वाली बोली कौनसी है ?

नीचे दिए गए विकल्पों में से सबसे उपयुक्त उत्तर चुनें:

(A) बागड़ी

(B) मारवाड़ी

**(C) ढूंढाड़ी**

(D) मेवाती

(E) अनुत्तरित प्रश्न

12. नीचे दो कथन दिए गए हैं : एक अभिकथन A (Assertion A) के रूप में लिखित है तो दूसरा उसके कारण R (Reason R) के रूप में।

अभिकथन A :

कालीबंगा के कब्रगाह में छह (6) छेदों वाली बालक की खोपड़ी मिली है।

कारण R :

छेद/छिद्र, मस्तिष्क ज्वर के उपचार के सूचक हो सकते हैं।

उपरोक्त कथनों के आलोक में, नीचे दिए गए विकल्पों में से सबसे उपयुक्त उत्तर का चयन कीजिए।

(A) A सही है लेकिन R सही नहीं है।

(B) A सही नहीं है लेकिन R सही है।

**(C) A और R दोनों सही हैं और R, A की सही व्याख्या है।**

(D) A और R दोनों सही हैं लेकिन R, A व्याख्या नहीं है।

(E) अनुत्तरित प्रश्न

## REET LEVEL-1 (17.1.26) – Answer Key

13. राष्ट्रीय उद्यान को उनके मूल जिला से मिलान करें:

सूची I (राष्ट्रीय उद्यान)	सूची II (जिला)
(A) रणथंभोर राष्ट्रीय उद्यान	(i) अलवर
(B) केवलादेव राष्ट्रीय उद्यान	(ii) सवाई माधोपुर
(C) सरिस्का राष्ट्रीय उद्यान	(iii) भरतपुर
(D) मुकुन्द पहाड़ी राष्ट्रीय उद्यान	(iv) कोटा

नीचे दिए गए विकल्पों में से सबसे उपयुक्त उत्तर चुनें:

- (A) (a)-(iv), (b)-(iii), (c)-(ii), (d)-(i)  
(B) (a)-(iii), (b)-(iv), (c)-(ii), (d)-(i)  
(C) (a)-(i), (b)-(ii), (c)-(iii), (d)-(iv)  
**(D) (a)-(ii), (b)-(iii), (c)-(i), (d)-(iv)**  
(E) अनुत्तरित प्रश्न

14. राजस्थान का दक्षिण पूर्व पठार क्षेत्र :

- (A) हाड़ौती पठार के रूप में भी जाना जाता है।  
(B) यह बारां, बून्दी और कोटा जिलों में विस्तृत है।  
(C) चंबल इस क्षेत्र की मुख्य नदी है।  
(D) चूलिया जलप्रपात भी यहाँ स्थित है।  
(E) यह छप्पन के मैदान के नाम से भी जाना जाता है।  
नीचे दिए गए विकल्पों में से सबसे उपयुक्त उत्तर चुनें:  
(A) (a), (b), (d) और (e)  
(B) (a), (c), (d) और (e)  
**(C) (a), (b), (c) और (d)**  
(D) (b), (c), (d) और (e)  
(E) अनुत्तरित प्रश्न

15. सूची I को सूची II से सुमेलित करें :

सूची I	सूची II
(a) हाड़ौती प्रजामंडल	(i) माणिक्यलाल वर्मा
(b) मेवाड़ प्रजामंडल	(ii) त्रिलोकचंद माथुर
(c) करौली प्रजामंडल	(iii) मिठालाल व्यास
(d) जैसलमेर प्रजामंडल	(iv) नयनुराम शर्मा

नीचे दिए गए विकल्पों में से सबसे उपयुक्त उत्तर चुनें:

- (A) (a)-iv, (b)-(ii), (c)-(iii), (d)-(i)  
(B) (a)-(iii), (b)-(iv), (c)-(i), (d)-(ii)  
**(C) (a)-(iv), (b)-(i), (c)-(ii), (d)-(iii)**  
(D) (a)-(iii), (b)-(ii), (c)-(i), (d)-(iv)  
(E) अनुत्तरित प्रश्न

16. राजस्थान सरकार ने हाल ही में पर्यावरण-संवेदनशील क्षेत्रों की सूची प्रकाशित की है। निम्नलिखित में से कौनसा राजस्थान से नहीं है ?

- (A) जयसमंद वन्यजीवन अभयारण्य  
**(B) नारायण सरोवर अभयारण्य**  
(C) मुकुंदरा हिल्स बाघ रिजर्व  
(D) केवलादेव राष्ट्रीय पार्क  
(E) अनुत्तरित प्रश्न

17. व्यवसायिक शिक्षा सहित उच्चतर शिक्षा में सकल नामांकन अनुपात में किस वर्ष तक 26.3% (2018) से वृद्धि करके 50% किए जाने का लक्ष्य है ?

- (A) 2035**  
(B) 2040  
(C) 2030  
(D) 2025  
(E) अनुत्तरित प्रश्न

18. आधुनिक अलवर राज्य के निम्नलिखित कच्छवाहा शासकों को आरोही क्रम में व्यवस्थित करें:

- (A) मंगल सिंह प्रभाकर बहादुर  
(B) बने सिंह प्रभाकर बहादुर  
(C) जय सिंह प्रभाकर बहादुर  
(D) श्योदान सिंह प्रभाकर बहादुर  
नीचे दिए गए विकल्पों में से सबसे उपयुक्त उत्तर चुनें:  
(A) (d), (b), (c), (a)  
(B) (b), (d), (a), (c)  
**(C) (a), (d), (b), (c)**  
(D) (c) (a), (d), (b)  
(E) अनुत्तरित प्रश्न

19. निम्नलिखित योजनाओं/नीतियों को कालक्रमानुसार व्यवस्थित करें:

- (A) निपुण भारत  
(B) पढ़े भारत  
(C) बेटी बचाओ बेटी पढ़ाओ  
(D) निष्ठा  
नीचे दिए गए विकल्पों में से सबसे उपयुक्त उत्तर चुनें:  
**(A) (b), (c), (d), (a)**  
(B) (b), (c), (a), (d)  
(C) (a), (b), (c), (d)

## REET LEVEL-1 (17.1.26) – Answer Key

(D) (a), (c), (d), (b)

(E) अनुत्तरित प्रश्न

20. एनईपी 2020 के अनुसार नवीन शिक्षाशास्त्रीय और पाठ्यचर्या संरचना क्या है ?

(A) 4+3+3+4

(B) 5+4+3+4

(C) 4+2+3+4

(D) 5+3+3+4

(E) अनुत्तरित प्रश्न

21. ग्रेनाइट है:

(A) एक उपयोगी इमारती वस्तु, जो फर्श, मंदिर आदि बनाने में उपयोग होता है।

(B) गुलाबी पिंक और मटमैला ग्रे, जालौर में पाया जाता है।

(C) पेंथर गुलाबी, अलवर में पाया जाता है।

(D) सीकर जिले में बंदनवाडा ग्रेनाइट का एक महत्वपूर्ण उत्पादक स्थान है।

नीचे दिए गए विकल्पों में से सबसे उपयुक्त उत्तर चुनें:

(A) केवल (a), (b) और (d)

(B) केवल (a), (b) और (c)

(C) केवल (a) और (b)

(D) केवल (b) और (c)

(E) अनुत्तरित प्रश्न

22. 9 अप्रैल 1991 को राजस्थान में नए जिले बनाए गए थे-

(A) कोटा जिले से बारां बनाया गया था।

(B) गंगानगर जिले से हनुमानगढ़ बनाया गया

(C) उदयपुर जिले से राजसमंद बनाया गया था।

(D) जयपुर जिले से दौसा बनाया गया था।

(E) राजस्थान में अब 7 प्रमंडल हैं।

नीचे दिए गए विकल्पों में से सबसे उपयुक्त उत्तर चुनें:

(A) केवल (b), (c) और (d)

(B) केवल (d) और (e)

(C) केवल (a), (b), (c) और (d)

(D) केवल (a), (b) और (c)

(E) अनुत्तरित प्रश्न

23. राजस्थान निःशुल्क और अनिवार्य शिक्षा का अधिकार नियम, 2011 के अनुसार स्थानीय प्राधिकारी अपने अधिकार क्षेत्र में, घर-घर सर्वेक्षण के माध्यम से, सभी बालकों का उनके जन्म से लेकर कितने वर्ष की आयु पूर्ण करने तक रिकॉर्ड रखेंगे ?

(A) 14 वर्ष

(B) 18 वर्ष

(C) 12 वर्ष

(D) 16 वर्ष

(E) अनुत्तरित प्रश्न

24. चैत्र कृष्ण सप्तमी और अष्टमी को जयपुर की चाकसू तहसील में कौनसा मेला लगता है?

(A) शीतला माता

(B) डिग्गी कल्याण जी

(C) कैला देवी

(D) कपिल मुनि

(E) अनुत्तरित प्रश्न

25. राजस्थान खादी और ग्रामोद्योग बोर्ड एक गैर-लाभकारी वैधानिक निकाय है, जो निम्नलिखित के अंतर्गत स्थापित किया गया है-

नीचे दिए गए विकल्पों में से सबसे उपयुक्त उत्तर चुनें: -

(A) राइजिंग राजस्थान-2020

(B) सूक्ष्म स्तर और घरेलू उद्योग अधिनियम-1991

(C) राजस्थान खादी और ग्रामोद्योग बोर्ड अधिनियम-1995

(D) पंचायती राज संशोधन - अध्यादेश - 2000

(E) अनुत्तरित प्रश्न

26. निम्नलिखित राज्यों को उनके क्षेत्रफल के अनुसार अवरोही क्रम में व्यवस्थित करें।

(A) राजस्थान

(B) हरियाणा

(C) उत्तर प्रदेश

(D) गुजरात

नीचे दिए गए विकल्पों में से सबसे उपयुक्त उत्तर चुनें:

(A) (b), (d), (c), (a)

(B) (d), (b), (c), (a)

(C) (a), (c), (d), (b)

(D) (a), (c), (b), (d)

## REET LEVEL-1 (17.1.26) – Answer Key

(E) अनुत्तरित प्रश्न

27. नीचे दो कथन दिए गए हैं : एक अभिकथन A (Assertion A) के रूप में लिखित है तो दूसरा उसके कारण R (Reason R) के रूप में।

अभिकथन A :

राजा उम्मेद सिंह ने रंगमहल बनवाया, जो अपने भित्ति चित्रों के लिए विश्व विख्यात है।

कारण R :

उनके शासनकाल में बूंदी शैली ने नवीन मोड़ लिया। वनस्पति और प्राणि विविधता, बहुरंगी बादल और झीलों संपूर्ण समृद्धि में निरूपित होना शुरू हो गई।

उपरोक्त कथनों के आलोक में, नीचे दिए गए विकल्पों में से सबसे उपयुक्त उत्तर का चयन कीजिए:

(A) A सही है लेकिन R सही नहीं है।

(B) A सही नहीं है लेकिन R सही है।

(C) A और R दोनों सही हैं और R, A की सही व्याख्या है।

(D) A और R दोनों सही हैं लेकिन R, A की सही व्याख्या नहीं है।

(E) अनुत्तरित प्रश्न

28. नीचे दो कथन दिए गए हैं: एक अभिकथन A (Assertion A) के रूप में लिखित है तो दूसरा उसके कारण R (Reason R) के रूप में।

अभिकथन A :

नागरी/नगरी शिलालेख (424 AD) संस्कृत भाषा में है।

कारण R :

वर्तमान में यह आमेर दुर्ग संग्रहालय में संरक्षित है, गुहिल शासक अपराजित की वीरता का इसमें वर्णन किया गया है।

उपरोक्त कथनों के आलोक में, नीचे दिए गए विकल्पों में से सबसे उपयुक्त उत्तर का चयन कीजिए:

(A) A सही है लेकिन R सही नहीं है।

(B) A सही नहीं है लेकिन R सही है।

(C) A और R दोनों सही हैं और R, A की सही व्याख्या है।

(D) A और R दोनों सही हैं लेकिन R, A की सही व्याख्या नहीं है।

(E) अनुत्तरित प्रश्न

29. नीचे दो कथन दिए गए हैं एक अभिकथन A (Assertion A) के रूप में लिखित है तो दूसरा उसके कारण R (Reason R) के रूप में।

अभिकथन A :

राजस्थान " खनिजों के अजायबघर" के रूप में प्रसिद्ध है।

कारण R :

गेरु/गेरिक खनिज केवल राजस्थान द्वारा उत्पादित किया जाता है।

उपरोक्त कथनों के आलोक में, नीचे दिए गए विकल्पों में से सबसे उपयुक्त उत्तर का चयन कीजिए

(A) A सही है लेकिन R सही नहीं है।

(B) A सही नहीं है लेकिन R सही है।

(C) A और R दोनों सही हैं और R, A की सही व्याख्या है।

(D) A और R दोनों सही हैं लेकिन R, A की सही व्याख्या नहीं है।

(E) अनुत्तरित प्रश्न

30. नीचे दो कथन दिए गए हैं : एक अभिकथन A (Assertion A) के रूप में लिखित है तो दूसरा, उसके कारण R (Reason R) के रूप में।

अभिकथन A :

राजस्थान में शाला दर्पण कार्यक्रम शिक्षण अधिगम में नवोन्मेष को बढ़ावा देने के लिए कक्षा-कक्ष में डिजिटल प्रौद्योगिकी को बढ़ावा देने पर केन्द्रित है।

कारण R :

राजस्थान शाला दर्पण कार्यक्रम केवल राज्य के ग्रामीण क्षेत्र में क्रियान्वित है।

उपरोक्त कथनों के आलोक में, नीचे दिए गए विकल्पों में से सबसे उपयुक्त उत्तर का चयन कीजिए :

(A) A सही है लेकिन R सही नहीं है।

(B) A सही नहीं है लेकिन R सही है।

(C) A और R दोनों सही हैं और R, A की सही व्याख्या है।

(D) A और R दोनों सही हैं लेकिन R, A की सही व्याख्या नहीं है।

(E) अनुत्तरित प्रश्न

31. राजस्थान के निम्नलिखित जिलों को दक्षिण से उत्तर के क्रम में बढ़ते हुए अक्षांश के अनुसार व्यवस्थित करें।

(A) झालावाड़

(B) झुंझुनूं

(C) जोधपुर

## REET LEVEL-1 (17.1.26) – Answer Key

(D) सवाई माधोपुर

नीचे दिए गए विकल्पों में से सबसे उपयुक्त उत्तर चुनें

(A) (a), (b), (d), (c)

(B) (d), (c), (b), (a)

**(C) (a), (d), (c), (b)**

(D) (a), (c), (b), (d)

(E) अनुत्तरित प्रश्न

32. निम्नलिखित चित्रों को कालक्रमानुसार व्यवस्थित करें:

(A) ढोला - मारू

(B) रागमाला चित्रावली

(C) जंगली सुअर का शिकार

(D) राजा पाबूजी का चित्र

नीचे दिए गए विकल्पों में से सबसे उपयुक्त उत्तर चुनें:

(A) (d), (a), (b), (c)

(B) (c), (b), (a), (d)

**(C) (a), (b), (d), (c)**

(D) (b), (a), (c), (d)

(E) अनुत्तरित प्रश्न

33. नीचे दो कथन दिए गए हैं: एक अभिकथन A (Assertion A) के रूप में लिखित है तो दूसरा उसके कारण R (Reason R) के रूप में।

अभिकथन A :

राजस्थान में शरद ऋतु मध्य सितंबर से लेकर मध्य दिसंबर तक व्याप्त रहती है।

कारण R :

वर्षा के पश्चात् स्पष्ट/खुले आसमान के कारण इस ऋतु में तापमान 38°C तक बढ़ जाता है।

उपरोक्त कथनों के आलोक में, नीचे दिए गए विकल्पों में से सबसे उपयुक्त उत्तर का चयन कीजिए:

(A) A सही है लेकिन R सही नहीं है।

**(B) A सही नहीं है लेकिन R सही है।**

(C) A और R दोनों सही हैं और R, A की सही व्याख्या है।

(D) A और R दोनों सही हैं लेकिन R, A की सही व्याख्या नहीं है।

(E) अनुत्तरित प्रश्न

34. निम्नलिखित कथन बीकानेर शहर से संबंधित हैं:

(A) यह पहाड़ी ढाल पर निर्मित किया गया था।

(B) पेशों/व्यवसायों के आधार पर शहर विभाजित किया गया था।

(C) आर्थिक क्रियाकलापों को सुगम बनाने और व्यापार को बढ़ावा देने के लिए हाट और बाजार बनाए गए थे।

(D) शहर के दोनों छोर पर दो चौपढ़ हैं।

नीचे दिए गए विकल्पों में से सबसे उपयुक्त उत्तर चुनें:

(A) केवल (c) और (d)

**(B) केवल (b) और (c)**

(C) केवल (a) और (b)

(D) केवल (b) और (d)

(E) अनुत्तरित प्रश्न

35. नीचे दो कथन दिए गए हैं: एक अभिकथन A (Assertion A) के रूप में लिखित है तो दूसरा उसके कारण R (Reason R) के रूप में।

अभिकथन A :

कजली तीज भाद्रपद कृष्ण तृतीया को बून्दी में मनाई जाती है।

कारण R :

अलंकृत पालकियों में तीज का मनोहारी जुलूस पिछोला झील के मनोहारी गणगौर घाट से शुरू होता है और नौकायन एवं आतिशबाजी के साथ समाप्त होता है।

उपरोक्त कथनों के आलोक में, नीचे दिए गए विकल्पों में से सबसे उपयुक्त उत्तर का चयन कीजिए:

(A) A सही है लेकिन R सही नहीं है।

(B) A सही नहीं है लेकिन R सही है।

(C) A और R दोनों सही हैं और R, A की सही व्याख्या है।

**(D) A और R दोनों सही हैं लेकिन R A की सही व्याख्या नहीं है।**

(E) अनुत्तरित प्रश्न

36. कीर्ति स्तम्भ के बारे में निम्नलिखित कथनों पर विचार करें :

(A) कीर्ति स्तम्भ जैन तीर्थंकर को समर्पित है।

(B) यह 13वीं सदी में निर्मित किया गया था।

(C) यह 24.5 मीटर ऊँचा स्तम्भ है।

(D) यह इस्लामी वास्तुकला शैली में निर्मित है।

(E) यह विजय स्तम्भ के लगभग 150 वर्षों बाद निर्मित किया गया था।

नीचे दिए गए विकल्पों में से सबसे उपयुक्त उत्तर चुनें:

(A) केवल (c), (d) और (e)

## REET LEVEL-1 (17.1.26) – Answer Key

(B) केवल (b), (d) और (e)

(C) केवल (a), (b) और (c)

(D) केवल (b), (c) और (d)

(E) अनुत्तरित प्रश्न

37. नीचे दो कथन दिए गए हैं : एक अभिकथन (Assertion A) के रूप में लिखित है तो कारण R (Reason R) के रूप में।

अभिकथन A :

घर-घर औषधि योजना के अंतर्गत तुलसी, अश्वगंधा, गिलोय और कालमेघ के पौधे प्रदान किए जाएंगे। कारण R :

योजना जन प्रतिनिधियों के सहयोग से सार्वजनिक अभियान के रूप में कार्यान्वित की जाएगी।

उपरोक्त कथनों के आलोक में, नीचे दिए गए विकल्पों में से सबसे उपयुक्त उत्तर का चयन कीजिए:

(A) A सही है लेकिन R सही नहीं है।

(B) A सही नहीं है लेकिन R सही है।

(C) A और R दोनों सही हैं और R, A की सही व्याख्या है।

(D) A और R दोनों सही हैं लेकिन R, A की सही व्याख्या नहीं है।

(E) अनुत्तरित प्रश्न

38. नीचे दो कथन दिए गए हैं : एक अभिकथन A (Assertion A) के रूप में लिखित है तो दूसरा उसके कारण R (Reason R) के रूप में।

अभिकथन A :

राजस्थान का मिशन बुनियाद प्राथमिकतया शिक्षण में मूलभूत और अंकगणितीय अधिगम में नवोन्मेष पर केन्द्रित है।

कारण R :

यह केवल उच्च प्राथमिक कक्षाओं के लिए ही शुरू किया गया था।

उपरोक्त कथनों के आलोक में, नीचे दिए गए विकल्पों में से सबसे उपयुक्त उत्तर का चयन कीजिए:

(A) A सही है लेकिन R सही नहीं है।

(B) A सही नहीं है लेकिन R सही है।

(C) A और R दोनों सही हैं और R, A की सही व्याख्या है।

(D) A और R दोनों सही हैं लेकिन R, A की सही व्याख्या नहीं है।

(E) अनुत्तरित प्रश्न

39. नीचे दो कथन दिए गए हैं : एक अभिकथन A (Assertion A) के रूप में लिखित है तो दूसरा उसके कारण R (Reason R) के रूप में।

अभिकथन A :

सौर कृषि आजीविका योजना पोर्टल राजस्थान के ऊर्जा मंत्री द्वारा 17 अक्टूबर 2022 में शुरू किया गया था।

कारण R :

इसका उद्देश्य सौर विद्युत संयंत्रों का विकेन्द्रीकरण करना था।

उपरोक्त कथनों के आलोक में, नीचे दिए गए विकल्पों में से सबसे उपयुक्त उत्तर का चयन कीजिए:

(A) A सही है लेकिन R सही नहीं है।

(B) A सही नहीं है लेकिन R सही है।

(C) A और R दोनों सही हैं और R, A की सही व्याख्या है।

(D) A और R दोनों सही हैं लेकिन R, A की सही व्याख्या नहीं है।

(E) अनुत्तरित प्रश्न

40. राजस्थान में ऊँट संरक्षण योजना :

(A) 2022-23 बजट में शुरूआत।

(B) प्रधानमंत्री मोदी द्वारा इसकी घोषणा की गई थी।

(C) नवजात ऊँट/टोलडे के जन्म पर 10,000 रूपए प्रति नवजात ऊँट/टोलडा प्रोत्साहन राशि प्रदान की जाएगी।

(D) प्रोत्साहन राशि दो किशतों में प्रदान की जाएगी।

(E) प्रत्येक किशत नकद प्रदान की जाएगी।

नीचे दिए गए विकल्पों में से सबसे उपयुक्त उत्तर चुनें:

(A) केवल (a), (c), (d) और (e)

(B) केवल (a), (c) और (d)

(C) केवल (a), (b) और (c)

(D) केवल (b), (c) और (d)

(E) अनुत्तरित प्रश्न

41. बांसवाड़ा में माही बांध किसके किनारे स्थित है?

(A) सांभर नदी

(B) गंगा नदी

(C) माही नदी

(D) लूणी नदी

(E) अनुत्तरित प्रश्न



## REET LEVEL-1 (17.1.26) – Answer Key

42. राजस्थान के निम्नलिखित जिलों को जनसंख्या के अनुसार अवरोही क्रम में व्यवस्थित करें (जनगणना 2011 के अनुसार) :

- (A) अलवर
- (B) बाड़मेर
- (C) बूंदी
- (D) बीकानेर

नीचे दिए गए विकल्पों में से सबसे उपयुक्त उत्तर चुनें:

- (A) (b), (a), (d), (c)
- (B) (b), (a), (c), (d)
- (C) (a), (b), (d), (c)**
- (D) (a), (b), (c), (d)
- (E) अनुत्तरित प्रश्न

43. नीचे दो कथन दिए गए हैं : एक अभिकथन A (Assertion A) के रूप में लिखित है तो दूसरा उसके कारण R (Reason R) के रूप में।

अभिकथन A :

महाराजा सूरजमल को जाटों का प्लेटों/जाट यूलीसैस कहा जाता है।

कारण R :

उन्होंने खेमकरण को पराजित करके भरतपुर दुर्ग कब्जा किया तथा भरतपुर की नींव रखी।

उपरोक्त कथनों के आलोक में, नीचे दिए गए विकल्पों में से सबसे उपयुक्त उत्तर का चयन कीजिए:

- (A) A सही है लेकिन R सही नहीं है।
- (B) A सही नहीं है लेकिन R सही है।
- (C) A और R दोनों सही हैं और R, A की सही व्याख्या है।
- (D) A और R दोनों सही हैं लेकिन R, A की सही व्याख्या नहीं है।**
- (E) अनुत्तरित प्रश्न

44. राजस्थान का कौनसा मेला “आदिवासियों का कुभ” कहा जाता है ?

- (A) कपिल मुनि मेला
- (B) भर्तृहरि मेला
- (C) गलियाकोट उर्स
- (D) बेणेश्वर मेला**
- (E) अनुत्तरित प्रश्न

45. सूची I को सूची II से सुमेलित करें :

सूची I	सूची II
(A) कान्हड़-दे-प्रबंध	(i) चंद बरदाई
(B) गंगा लहरी	(ii) पद्मनाभ
(C) पृथ्वीराज रासो	(iii) पृथ्वीराज राठौड़
(D) बीसलदेव रासो	(iv) नरपति नाल्ह

नीचे दिए गए विकल्पों में से सबसे उपयुक्त उत्तर चुनें:

- (A) (a)-(iii), (b)-(iv), (c)-(i), (d)-(ii)
- (B) (a)-(ii), (b)-(iii), (c)-(i), (d)-(iv)**
- (C) (a)-(ii), (b)-(i), (c)-(iv), (d)-(iii)
- (D) (a)-(iv), (b)-(i), (c)-(iii), (d)-(ii)
- (E) अनुत्तरित प्रश्न

46. स्कूल विकास योजना (SDP) के संदर्भ में निम्न में से क्या सही है?

- (A) एसडीपी, स्कूल के सभी पहलुओं पर अभिकेंद्रित एक समग्र योजना के रूप में परिकल्पित किया गया है।
- (B) आरटीई एक्ट-2009 इस संबंध में एक्ट की धारा 22 के अंतर्गत उपबंध प्रदान करता है।
- (C) यह बाल अधिकारों के संरक्षण, अवसंरचना और शिक्षक उपलब्धता आदि पर अभिकेंद्रित है।
- (D) एसडीपी उसी स्कूल के अध्यापकों द्वारा तैयार किया जाता है।

नीचे दिए गए विकल्पों में से सबसे उपयुक्त उत्तर चुनें:

- (A) केवल (b), (c), (d)
- (B) केवल (a), (c), (d)
- (C) केवल (a), (b), (d)
- (D) केवल (a), (b), (c)**
- (E) अनुत्तरित प्रश्न

47. नीचे दो कथन दिए गए हैं: एक अभिकथन A (Assertion A) के रूप में लिखित है तो दर कारण R (Reason R) के रूप में।

अभिकथन A :

गुर्जरी से राजस्थान और गुजरात की सर्वसामान्य भाषा मारु-गुर्जर विकसित हुई थी।

कारण R :

बाद में राजस्थानी और गुजराती विभेदित होना शुरू हो गई तथा पश्चात्पूर्वी शताब्दियों में विशिष्ट राजस्थानी भाषा (मारु भाषा) (डिंगल) विकसित हुई।



## REET LEVEL-1 (17.1.26) – Answer Key

उपरोक्त कथनों के आलोक में, नीचे दिए गए विकल्पों में से सबसे उपयुक्त उत्तर का चयन कीजिए:

(A) A सही है लेकिन R सही नहीं है।

(B) A सही नहीं है लेकिन R सही है।

**(C) A और R दोनों सही हैं और R, A की सही व्याख्या है।**

(D) A और R दोनों सही हैं लेकिन R, A की सही व्याख्या नहीं है।

(E) अनुत्तरित प्रश्न

48. एनईपी-2020 के अनुसार नवीन स्कूल संरचना के चरणों को व्यवस्थित करें:

(A) तैयारी/शुरुआती चरण

(B) माध्यमिक चरण

(C) मध्यम चरण

(D) आधारभूत चरण

नीचे दिए गए विकल्पों में से सबसे उपयुक्त उत्तर चुनें:

(A) (a), (d), (b), (c)

(B) (a), (d), (c), (b)

**(C) (d), (a), (c), (b)**

(D) (d), (c), (a), (b)

(E) अनुत्तरित प्रश्न

49. निम्न में से कौन राजस्थान इंदिरा प्रियदर्शिनी पुरस्कार योजना के संदर्भ में सही हैं ?

(A) योजना केवल 'आर बी एस ई' की छात्राओं के लिए है।

(B) कक्षा 8, 10 और 12 के जिला टॉपर इस योजना के लिए पात्र हैं।

(C) यह राजस्थान में कन्या शिक्षा को बढ़ावा देती है।

(D) इस योजना के अंतर्गत कक्षा 12 के जिला टॉपर को 20,000 रूपए मिलते हैं।

नीचे दिए गए विकल्पों में से सबसे उपयुक्त उत्तर चुनें

(A) केवल (b), (c), (d)

(B) केवल (a), (c), (d)

(C) केवल (a), (b), (d)

**(D) केवल (a), (b), (c)**

(E) अनुत्तरित प्रश्न

50. सूची I को सूची II से सुमेलित करें :

सूची I

सूची II

(झील)

(शहर)

(A) राजसमंद झील

(i) अजमेर

(B) पिछोला झील

(ii) उदयपुर

(C) आनासागर झील

(iii) कांकरोली

(D) सिलिसेढ़ झील

(iv) अलवर

नीचे दिए गए विकल्पों में से सबसे उपयुक्त उत्तर चुनें:

(A) (a)-(i), (b)-(ii), (c)-(iii), (d)-(iv)

(B) (a)-(iv), (b)-(iii), (c)-(ii), (d)-(i)

(C) (a)-(iii), (b)-(ii), (c)-(iv), (d)-(i)

**(D) (a)-(ii), (b)-(ii), (c)-(i), (d)-(iv)**

(E) अनुत्तरित प्रश्न

51. नीचे दो कथन दिए गए हैं: एक अभिकथन A (Assertion A) के रूप में लिखित है तो दूसरा उसके कारण R (Reason R) के रूप में।

अभिकथन A :

राजस्थान सरकार ने अरावली हरित विकास परियोजना शुरू की है।

कारण R :

प्रथम वर्ष में इसका जोर वृक्षारोपण पर है। यह अरावली हरित दीवार परियोजना से संरेखित है।

उपरोक्त कथनों के आलोक में, नीचे दिए गए विकल्पों में से सबसे उपयुक्त उत्तर का चयन कीजिए:

(A) A सही है लेकिन R सही नहीं है।

(B) A सही नहीं है लेकिन R सही है।

**(C) A और R दोनों सही हैं और R, A की सही व्याख्या है।**

(D) A और R दोनों सही हैं लेकिन R, A की सही व्याख्या नहीं है।

(E) अनुत्तरित प्रश्न

52. हिन्दुओं के द्वारा किनको श्रीकृष्ण के अवतार और मुस्लिमों के द्वारा रामसा-पीर के रूप में पूजा जाता है ?

(A) गोगाजी

**(B) रामदेवजी**

(C) मल्लीनाथ जी

(D) देवनारायण जी

(E) अनुत्तरित प्रश्न

53. राजस्थान में 1857 की क्रांति को कालक्रम में व्यवस्थित करें :

(A) कोटा में क्रांति

(B) नसीराबाद में क्रांति

## REET LEVEL-1 (17.1.26) – Answer Key

(C) एरिनपुर में क्रांति

(D) नीमच में क्रांति

नीचे दिए गए विकल्पों में से सबसे उपयुक्त उत्तर चुनें:

**(A) (b), (d), (c), (a)**

(B) (c), (b), (a), (d)

(C) (c) (d), (a), (b)

(D) (b) (a), (c), (d)

(E) अनुत्तरित प्रश्न

54. पुरन्दर की संधि पर किस वर्ष हस्ताक्षर हुए थे ?

(A) 1695 AD

(B) 1756 AD

**(C) 1665 AD**

(D) 1668 AD

(E) अनुत्तरित प्रश्न

55. नीचे दो कथन दिए गए हैं: एक अभिकथन A (Assertion A) के रूप में लिखित है तो दूसरा उसके कारण R (Reason R) के रूप में।

अभिकथन A :

शुष्क वन उन क्षेत्रों में पाये जाते हैं, जहाँ औसत वर्षा 50-100 सेमी रहती है।

कारण R :

यहाँ पाये जाने वाले पेड़ अबोनी (आबनूस) और जंगली आम है।

उपरोक्त कथनों के आलोक में, नीचे दिए गए विकल्पों में से सबसे उपयुक्त उत्तर का चयन कीजिए:

(A) A सही है लेकिन R सही नहीं है।

(B) A सही नहीं है लेकिन R सही है।

(C) A और R दोनों सही हैं और R, A की सही व्याख्या है।

**(D) A और R दोनों सही हैं लेकिन R, A की सही व्याख्या नहीं है।**

(E) अनुत्तरित प्रश्न

56. निम्नलिखित जिलों को (जनगणना 2011 के अनुसार) साक्षरता दर के आरोही क्रम में व्यवस्थित करें:

(A) राजसमंद

(B) पाली

(C) नागौर

(D) कोटा

नीचे दिए गए विकल्पों में से सबसे उपयुक्त उत्तर चुनें:

(A) (d), (c), (b), (a)

**(B) (b), (c), (a), (d)**

(C) (a), (b), (c), (d)

(D) (c), (b), (a), (d)

(E) अनुत्तरित प्रश्न

57. एन सी एफ का पूरा नाम क्या है ?

(A) राष्ट्रीय कक्षा-कक्ष रूपरेखा

(B) राष्ट्रीय सृजनात्मकता रूपरेखा

**(C) राष्ट्रीय पाठ्यचर्या रूपरेखा**

(D) राष्ट्रीय सांस्कृतिक रूपरेखा

(E) अनुत्तरित प्रश्न

58. राजस्थानी साहित्य की निम्नलिखित रचनाओं को कालक्रमानुसार व्यवस्थित करें:

(A) वंश भास्कर

(B) बुद्धि रासो

(C) ढोला मारू रा दोहा

(D) बिनहाई रासो

नीचे दिए गए विकल्पों में से सबसे उपयुक्त उत्तर चुनें

(A) (d), (b), (c), (a)

(B) (d), (c), (a), (b)

(C) (b), (a), (d), (c)

**(D) (c), (b), (d), (a)**

(E) अनुत्तरित प्रश्न

59. पैरा ओलम्पिक टोक्यो, 2020 में राजस्थान के निम्नलिखित खिलाड़ियों ने पदक जीते :-

(A) सुरेन्द्र सिंह गुर्जर

(B) अवनी लेखरा

(C) देवेन्द्र झाझड़िया

(D) राज्यवर्धन सिंह

राठौड़ नीचे दिए गए विकल्पों में से सबसे उपयुक्त उत्तर चुनें:

(A) केवल (c), (a) और (d)

(B) केवल (b), (c) और (d)

**(C) केवल (a), (b) और (c)**

(D) केवल (a), (b) और (d)

(E) अनुत्तरित प्रश्न

## REET LEVEL-1 (17.1.26) – Answer Key

60. निम्नलिखित सामासिक शब्दों के साथ उनके समास के भेद दिए गए हैं। सही युग्म को पहचानिए।

- (A) चारपाई - द्विगु समास
- (B) पंचानन - कर्मधारय समास
- (C) जलधर - तत्पुरुष समास
- (D) आग पानी - द्विगु समास
- (E) दशानन - बहुब्रीहि समास

नीचे दिए गए विकल्पों में से सबसे उपयुक्त उत्तर का चयन कीजिए:

- (A) (a), (c) और (e)
- (B) (b), (c) और (d)
- (C) (a), (b) और (d)
- (D) (b), (d) और (e)
- (E) अनुत्तरित प्रश्न

61. 'ढाक के तीन पात होना' मुहावरे का अर्थ है-

- (A) अनुरूप बनाना
- (B) सदा एक सा
- (C) यत्नपूर्वक रखना
- (D) ऊटपटाँग काम करना
- (E) अनुत्तरित प्रश्न

62. वर्तनी की दृष्टि से शुद्ध शब्दों का चयन कीजिए-

- (A) श्रृंगार
- (B) घनिष्ठ
- (C) उज्ज्वल
- (D) संसारिक
- (E) संन्यास

नीचे दिए गए विकल्पों में से सबसे उपयुक्त उत्तर का चयन कीजिए:

- (A) केवल (a), (c) और (d)
- (B) केवल (b), (c) और (e)
- (C) केवल (a), (b) और (d)
- (D) केवल (c), (d) और (e)
- (E) अनुत्तरित प्रश्न

63. निम्न शब्दों के सही संधि-विच्छेद को पहचानिए-

- (A) अत्याचार - अति + आचार
- (B) तथैव - तथ + एव
- (C) परीक्षा - पर + ईक्षा
- (D) प्रौढ़ - प्र + ऊढ़

(E) गव्यम् - गो + यम्

नीचे दिए गए विकल्पों में से सबसे उपयुक्त उत्तर चुनें:

- (A) केवल (a), (d) और (e)
- (B) केवल (b), (d) और (e)
- (C) केवल (a), (b) और (c)
- (D) केवल (b), (c) और (e)
- (E) अनुत्तरित प्रश्न

64. सूची I को सूची II से सुमेलित करें-

सूची I	सूची II
(A) भाववाचक संज्ञा	(i) माधव सो रहा है।
(B) पुरुषवाचक सर्वनाम	(ii) इस मोहल्ले का बजबजाता नाला नगर-निगम की पोल खोल रहा है।
(C) अकर्मक क्रिया	(iii) छोटे बालक की मुस्कुराहट अत्यंत प्यारी है।
(D) गुणवाचक विशेषण	(iv) आप कहाँ जा रहे थे ?

नीचे दिए गए विकल्पों में से सबसे उपयुक्त उत्तर चुनें :

- (A) (a)-(ii), (b)-(i), (c)-(iv), (d)-(iii)
- (B) (a)-(iv), (b)-(iii), (c)-(i), (d)-(ii)
- (C) (a)-(iv), (b)-(i), (c)-(ii), (d)-(iii)
- (D) (a)-(iii), (b)-(iv), (c)-(i), (d)-(ii)
- (E) अनुत्तरित प्रश्न

65. Rearrange the sequence of words to form a meaningful sentence in past tense:

- (A) were talking
- (B) was writing
- (C) on the black-board.
- (D) when the teacher
- (E) The students

Choose the most appropriate answer from the options given below:

- (A) (a), (e), (b), (d), (c)
- (B) (e), (d), (c), (b), (a)
- (C) (a), (b), (c), (d), (e)
- (D) (e), (a), (d), (b), (c)
- (E) Question not attempted

66. Identify the type of sentence given below in reported speech.

## REET LEVEL-1 (17.1.26) – Answer Key

Ria asked Ravi if he had bought tickets for the concert.

- (A) Statement - Assertive
- (B) Statement - Negative
- (C) Interrogative
- (D) Imperative
- (E) A universal truth.

Choose the most appropriate answer from the options given below:

- (A) (c) only**
- (B) (d) only
- (C) (a) and (e) only
- (D) (b) only
- (E) Question not attempted

67. Match List I with List II:

List I	List II
(A) A piece of cake	(i) To stop working on something.
(B) Call it a day	(ii) Feeling slightly unwell
(C) Once in a blue moon	(iii) Something very easy
(D) Under the weather	(iv) Very rarely

Choose the most appropriate answer in the options given below:

- (A) (a)-(iii), (b)-(iv), (c)-(ii), (d)-(i)
- (B) (a)-(iv), (b)-(iii), (c)-(ii), (d)-(i)
- (C) (a)-(iii), (b)-(i), (c)-(iv), (d)-(ii)**
- (D) (a)-(i), (b)-(ii), (c)-(iii), (d)-(iv)
- (E) Question not attempted

68. Choose the best single word that replace the statement given below:

A person who knows and uses several languages is called:

- (A) Trilingual
- (B) Polyglot**
- (C) Monolingual
- (D) Bilingual

(E) Question not attempted

69. Fill in the blank with the most appropriate article:

This is ..... best book of elementary physics.

- (A) The**
- (B) Some
- (C) A
- (D) An
- (E) Question not attempted

70. निम्नलिखित कथनों पर विचार करें:

- (A) अकबर ने 1562 में अजमेर दौरा किया था।
- (B) तत्पश्चात् अजमेर शहर, अजमेर सूबा की राजधानी बना था।

(C) अजमेर सूबा में सात सरकार (संभाग) थे।

(D) इसमें 197 परगने थे।

(E) हालांकि, इसने गुजरात, मेवाड़ और मारवाड़ के विरुद्ध साम्राज्यवादी अभियानों के आधार केन्द्र की भूमिका नहीं निभाई थी।

नीचे दिए गए विकल्पों में से सबसे उपयुक्त उत्तर चुनें:

- (A) केवल (b), (c), (d) और (e)
- (B) केवल (a), (b), (c) और (d)

**(C) केवल (a) और (b)**

(D) केवल (b), (c) और (d)

(E) अनुत्तरित प्रश्न

71. 19वीं सदी के दौरान ब्रिटिश ने शहरी जीवन में सुधार के प्रयास किए और नगर पालिकाओं की स्थापना की। ब्रिटिश द्वारा स्थापित नगरपालिकाओं को कालक्रमानुसार व्यवस्थित करें।

- (A) आबू
- (B) जैसलमेर
- (C) कोटा
- (D) बूंदी

नीचे दिए गए विकल्पों में से सबसे उपयुक्त उत्तर चुनें:

- (A) (a), (b), (c), (d)
- (B) (d), (c), (b), (a)
- (C) (a), (c), (d), (b)**
- (D) (a), (d), (b), (c)

## REET LEVEL-1 (17.1.26) – Answer Key

(E) अनुत्तरित प्रश्न

72. नीचे दो कथन दिए गए हैं : एक अभिकथन A (Assertion A) के रूप में लिखित है तो दूसरा उसके कारण R (Reason R) के रूप में।

अभिकथन A :

एक पहिया 88 किमी. की दूरी तय करने में 1000 घूर्णन करता है।

कारण R :

ऐसे पहिए की त्रिज्या 14 मीटर होगी।

उपरोक्त कथनों के आलोक में, नीचे दिए गए विकल्पों में से सबसे उपयुक्त उत्तर का चयन कीजिए:

(A) A सही है लेकिन R सही नहीं है।

(B) A सही नहीं है लेकिन R सही है।

(C) A और R दोनों सही हैं और R, A की सही व्याख्या है।

(D) A और R दोनों सही हैं, लेकिन R, A की सही व्याख्या नहीं है।

(E) अनुत्तरित प्रश्न

73. नीचे दो कथन दिए गए हैं : एक अभिकथन A (Assertion A) के रूप में लिखित है तो दूसरा उसके कारण R (Reason R) के रूप में।

अभिकथन A :

अंकगणित की मूलभूत प्रमेय के अनुसार प्रत्येक धनात्मक पूर्णांक को अभाज्य संख्याओं के गुणनफल के रूप में अभिव्यक्त किया जा सकता है।

कारण R :

किसी संख्या को अभाज्य संख्याओं के गुणनफल के रूप में अभिव्यक्त करने की प्रक्रिया को अभाज्य गुणनखण्डीयन के रूप में नहीं निरूपित किया जा सकता है।

उपरोक्त कथनों के आलोक में, नीचे दिए गए विकल्पों में से सबसे उपयुक्त उत्तर का चयन कीजिए:

(A) A सही है लेकिन R सही नहीं है।

(B) A सही नहीं है लेकिन R सही है।

(C) A और R दोनों सही हैं और R, A की सही व्याख्या है।

(D) A और R दोनों सही हैं, लेकिन R, A की सही व्याख्या नहीं है।

(E) अनुत्तरित प्रश्न

74. नीचे दो कथन दिए गए हैं: एक अभिकथन A (Assertion A) के रूप में लिखित है तो दूसरा उसके कारण R (Reason R) के रूप में।

अभिकथन A :

जलवायु के कारण बाजरा राजस्थान की सबसे महत्वपूर्ण खाद्यान्न फसल है।

कारण R :

शुष्क और अर्द्ध-शुष्क जलवायु बाजरा उत्पादन के लिए उचित है।

उपरोक्त कथन के आलोक में, नीचे दिए गए विकल्पों में से सबसे उपयुक्त उत्तर का चयन कीजिए:

(A) A सही है लेकिन R सही नहीं है

(B) A सही नहीं है लेकिन R सही है

(C) A और R दोनों सही हैं और R, A की सही व्याख्या है

(D) A और R दोनों सही हैं लेकिन R, A की सही व्याख्या नहीं है

(E) अनुत्तरित प्रश्न

75. नीचे दो कथन दिए गए हैं: एक अभिकथन A (Assertion A) के रूप में लिखित है तो दूसरा उसके कारण R (Reason R) के रूप में।

अभिकथन A :

कोलॉइड ऐसे मिश्रण हैं जिनमें कण आमाप इतना छोटा होता है कि नग्न आँखों से नहीं देखा जा सकता है, लेकिन प्रकाश के प्रकीर्णन के लिए पर्याप्त बड़ा होता है।

कारण R :

कोलॉइड समांगी मिश्रण है।

उपरोक्त कथनों के आलोक में, नीचे दिए गए विकल्पों में से सबसे उपयुक्त उत्तर का चयन कीजिए:

(A) A सही है लेकिन R सही नहीं है।

(B) A सही नहीं है लेकिन सही है।

(C) A और R दोनों सही हैं और R, A की सही व्याख्या है।

(D) A और R दोनों सही हैं, लेकिन R, A की सही व्याख्या नहीं है।

(E) अनुत्तरित प्रश्न

76. सूची I को सूची II से सुमेलित करें :

सूची I

सूची II

(लवण)

(रासायनिक सूत्र)

(A) ब्लीचिंग पाउडर

(i)  $\text{Ca}(\text{ClO})_2$

(विरंजक चूर्ण)

## REET LEVEL-1 (17.1.26) – Answer Key

- (B) बेकिंग सोडा (ii)  $\text{NaHCO}_3$   
 (C) धावन सोडा (iii)  $\text{Na}_2\text{CO}_3 \cdot 10\text{H}_2\text{O}$   
 (वाशिंग सोडा)

- (D) प्लास्टर ऑफ पेरिस (iv)  $\text{CaSO}_4 \cdot \frac{1}{2} \text{H}_2\text{O}$   
 नीचे दिए गए विकल्पों में से सबसे उपयुक्त उत्तर चुनें:  
 (A) (a)-(iv), (b)-(iii), (c)-(ii), (d)-(i)  
**(B) (a)-(i), (b)-(ii), (c)-(iii), (d)-(iv)**  
 (C) (a)-(iv), (b)-(iii), (c)-(i), (d)-(ii)  
 (D) (a)-(iv), (b)-(i), (c)-(ii), (d)-(iii)  
 (E) अनुत्तरित प्रश्न

77. दो संख्याओं का लघुत्तम समापवर्त्य 495 और महत्तम समापवर्तक 5 है। यदि संख्याओं का योग 100 है, तब उनका अंतर होगा :

- (A) 10  
 (B) 20  
 (C) 30  
 (D) 40

नीचे दिए गए विकल्पों में से सबसे उपयुक्त उत्तर चुनें:

- (A) केवल (b)  
**(B) केवल (a)**  
 (C) केवल (d)  
 (D) केवल (c)  
 (E) अनुत्तरित प्रश्न

78. 18000 रूपए की धनराशि पर 2 वर्षों में उपचयित चक्रवृद्धि व्याज और साधारण व्याज के बीच अंतर 405 रूपए है। प्रति वर्ष व्याज दर क्या है ?

- (A) 24%  
 (B) 25%  
 (C) 14%  
**(D) 15%**

(E) अनुत्तरित प्रश्न

79. फेफड़ों में मार्ग/पथ (पासेज) छोटी/लघुत्तम नलिकाओं में बँट जाता है, जो गुब्बारे जैसी संरचनाओं में समाप्त होता है, जिन्हें निम्नलिखित में से क्या कहा जाता है ?

- (A) श्वसनी/ब्रोन्कस  
**(B) कूविका/एल्विओल**  
 (C) डायाफ्राम/पट

- (D) फुफ्फुसावरणी झिल्ली  
 (E) अनुत्तरित प्रश्न

80. एक सजीव के शरीर के संगठन को पदानुक्रम में इस प्रकार व्यवस्थित किया जा सकता है-

- (A) कोशिकाएँ (B) ऊतक  
 (C) अंग तंत्र (D) अंग

नीचे दिए गए विकल्पों में से सबसे उपयुक्त उत्तर का चयन कीजिए:

- (A) (a), (d), (c), (b)  
 (B) (a), (c), (d), (b)  
 (C) (a), (b), (c), (d)  
**(D) (a), (b), (d), (c)**

(E) अनुत्तरित प्रश्न

81. सूची I को सूची II से सुमेलित करें :

सूची I	सूची II
(आकृति)	(आयतन)
(A) घनाभ	(i) लंबाई × चौड़ाई × ऊँचाई
(B) शंकु	(ii) $\pi \times (\text{त्रिज्या})^2 \times \text{ऊँचाई}$
(C) बेलन	(iii) $\frac{1}{3} \pi \times (\text{त्रिज्या})^2 \times \text{ऊँचाई}$
(D) गोला	(iv) $\frac{4}{3} \pi \times (\text{त्रिज्या})^3$

नीचे दिए गए विकल्पों में से सबसे उपयुक्त उत्तर चुनें:

- (A) (a)-(i) (b)-(iii), (c)-(ii), (d)-(iv)**  
 (B) (a)-(i), (b)-(ii), (c)-(iii), (d)-(iv)  
 (C) (a)-(i), (b)-(iii), (c)-(iv), (d)-(ii)  
 (D) (a)-(i), (b)-(iv), (c)-(iii), (d)-(ii)  
 (E) अनुत्तरित प्रश्न

82. नीचे दो कथन दिए गए हैं : एक अभिकथन A (Assertion A) के रूप में लिखित है तो दूसरा कारण R (Reason R) के रूप में।

अभिकथन A :

उसके उच्चतम न्यायालय और उच्च न्यायालय के न्यायाधीशों को हटाया जाना बहुत कठिन है।

कारण R :

उच्चतम न्यायालय और उच्च न्यायालय के किसी न्यायाधीश को केवल सिद्ध कदाचार और अक्षमता के आधार पर ही हटाया जा सकता है।

उपरोक्त कथनों के आलोक में, नीचे दिए गए विकल्पों में से सबसे उपयुक्त उत्तर का चयन कीजिए:

## REET LEVEL-1 (17.1.26) – Answer Key

- (A) A सही है लेकिन R सही नहीं है।  
(B) A सही नहीं है लेकिन R सही है।  
(C) A और R दोनों सही हैं और R, A की सही व्याख्या है।  
(D) A और R दोनों सही हैं लेकिन R, A की सही व्याख्या नहीं है।  
(E) अनुत्तरित प्रश्न

83. राजस्थान के दक्षिणी और दक्षिण-पूर्व भागों में सागौन वन स्थित हैं। सबसे अधिक सागौन वन क्षेत्र वाला वन संभाग है :

- (A) उदयपुर  
(B) बारां  
(C) बांसवाड़ा  
(D) चित्तौड़गढ़  
(E) अनुत्तरित प्रश्न

84. रूडोल्फ विर्ची ने सबसे पहले इस वर्ष में समझाया था कि कोशिकाएँ विभाजन करती हैं और नई कोशिकाएँ पूर्व-विद्यमान कोशिकाओं से बनती हैं-

- (A) 1855 (B) 1858  
(C) 1859 (D) 1860

नीचे दिए गए विकल्पों में से सबसे उपयुक्त उत्तर का चयन कीजिए:

- (A) केवल (c)  
(B) केवल (d)  
(C) केवल (a)  
(D) केवल (b)  
(E) अनुत्तरित प्रश्न

85. सूची I को सूची II से सुमेलित करें:

सूची I सूची II

- (A) श्रवण कौशल (i) भावों और विचारों को लिखित भाषा के माध्यम से पढ़कर समझना  
(B) वाचन कौशल (ii) भावों एवं विचारों की कलात्मक अभिव्यक्ति  
(C) लेखन कौशल (iii) मौखिक भाषा सुनकर उसके अर्थ एवं भाव समझना  
(D) पठन कौशल (iv) भावानुसार स्वर के उचित आरोह-अवरोह के साथ पढ़ना  
नीचे दिए गए विकल्पों में से सबसे उपयुक्त उत्तर चुनें :

- (A) (a)-(iii), (b)-(ii), (c)-(i), (d)-(iv)  
(B) (a)-(iv), (b)-(iii), (c)-(ii), (d)-(i)  
(C) (a)-(ii), (b)-(iii), (c)-(i), (d)-(iv)  
(D) (a)-(iii), (b)-(iv), (c)-(ii), (d)-(i)  
(E) अनुत्तरित प्रश्न

86. निम्नलिखित विधियों में से कौन सी विधि हिन्दी-भाषा कौशल की शिक्षण विधि नहीं है?

- (A) आगमन निगमन विधि  
(B) संवाद विधि  
(C) अनुकरण विधि  
(D) भाषा प्रयोगशाला  
(E) अनुत्तरित प्रश्न

87. हिन्दी शिक्षण के मूल्यांकन के संबंध में कौन से तथ्य सही नहीं हैं ?

- (a) बालकों की उपलब्धियों के मापन विश्वसनीय तथा वैध उपकरणों का करना चाहिए।  
(b) शिक्षण एवं परीक्षण बिन्दुओं को पहले निश्चित करना चाहिए।  
(c) परीक्षण बिन्दुओं तथा शिक्षण बिन्दुओं समन्वय स्थापित करना आवश्यक नहीं है।  
(d) शिक्षण में मूल्यांकन-विधि का प्रयोग करने के लिए विशेष प्रशिक्षण की आवश्यकता नहीं होती है।  
नीचे दिए गए विकल्पों में से सबसे उपयुक्त उत्तर का चयन कीजिए:

- (A) केवल (a) और (d)  
(B) केवल (a) और (c)  
(C) केवल (b) और (c)  
(D) केवल (c) और (d)  
(E) अनुत्तरित प्रश्न

88. नीचे दो कथन दिए गए हैं: एक अभिकथन A (Assertion A) के रूप में लिखित है तो दूसरा उसके कारण (Reason R) के रूप में।

अभिकथने A :

शैक्षणिक निदान द्वारा बालकों की कठिनाइयों का पता लगाकर उन कठिनाइयों को दूर करते हुए जो शिक्षण कार्य किया जाता है उसे उपचारी शिक्षण कहते हैं।

कारण R :

शैक्षणिक निदान का प्रयोजन ही उपचारी शिक्षण है।



## REET LEVEL-1 (17.1.26) – Answer Key

उपरोक्त कथन के आलोक में, नीचे दिए गए विकल्पों में से सबसे उपयुक्त उत्तर का चयन कीजिए:

(A) A सही है लेकिन R सही नहीं है।

(B) A सही नहीं है लेकिन R सही है।

**(C) A और R दोनों सही हैं और R, A की सही व्याख्या है।**

(D) A और R दोनों सही हैं, लेकिन R, A की सही व्याख्या नहीं है।

(E) अनुत्तरित प्रश्न

89. Which principle is central to guide methods. of teaching English effectively in the classroom?

**(A) Encouraging students to communicate in English as much as possible.**

(B) Focusing only on reading classical literature.

(C) Translating every word to mother tongue.

(D) Teaching all the grammar rules in detail before practice.

(E) Question not attempted

90. Match List I with List II

List I

List II

(A) Listening

(i) Narrating events in a logical sequence.

(B) Speaking Skill

(ii) Locating details or the sequence of events in a text.

(C) Reading Skill

(iii) Identifying the sequence in which things happen in a story.

(D) Writing Skill

(iv) Using suitable punctuation marks and writing meaningfully.

Choose the most appropriate answer from the options given below:

(A) (a)-(iv) (b)-(iii), (c)-(ii), (d)-(i)

(B) (a)-(i), (b)-(iii), (c)-(ii), (d)-(iv)

**(C) (a)-(iii), (b)-(i), (c)-(ii), (d)-(iv)**

(D) (a)-(i), (b)-(ii), (c)-(iii), (d)-(iv)

(E) Question not attempted

91. Given below are two statements : one is labelled as Assertion A and the other is labelled as Reason R

Assertion A:

Questions for testing writing skills should not be based on rote learning.

Reason R:

Rote learning only tests memory, which fails to assess the learner's-actual ability to write.

In the light of the above statements, choose the most appropriate answer from the options given below:

(A) A is correct but R is not correct.

(B) A is not correct but R is correct.

**(C) Both A and R are correct and R is the correct explanation of A.**

(D) Both A and R are correct but R is NOT the correct explanation of A.

(E) Question not attempted

92. Arrange the following steps for conducting a listening test, in the correct order:

(a) The teacher reads out the listening text. For example, a story.

(b) The pupil/student receives the test instructions.

(c) The teacher grades the responses, accepting minor spelling mistakes (if spelling are not being tested).

(d) The students perform the required task. (For example, fill in the blanks, choose the correct answer)

Choose the most appropriate answer from the options given below:

(A) (d), (c), (b), (a)

**(B) (a), (b), (d), (c)**

(C) (a), (b), (c), (d)

(D) (b), (a), (d), (c)

(E) Question not attempted

## REET LEVEL-1 (17.1.26) – Answer Key

93. नीचे दो कथन दिए गए हैं : एक अभिकथन A (Assertion A) के रूप में लिखित है तो दूसरा उसके कारण R (Reason R) के रूप में।

अभिकथन A :

स्वानुभाविक शोध विधि कोई विधि नहीं है, किन्तु एक अभिवृत्ति है जो शिक्षण-अधिगम प्रक्रिया के दौरान बनाई रखी जानी चाहिए।

कारण R :

स्वानुभाविक शोध विधि याद करने और रट्टा मारने पर बल देती है क्योंकि विद्यार्थी स्वयं अपने-आप संलग्नसम्मिलित नियमों की खोज करने में असफल रहते हैं।

उपरोक्त कथनों के आलोक में, नीचे दिए गए विकल्पों में से सबसे उपयुक्त उत्तर का चयन कीजिए:

(A) A सही है लेकिन R सही नहीं है।

(B) A सही नहीं है लेकिन R सही है।

(C) A और R दोनों सही हैं और R, A की सही व्याख्या है।

(D) A और R दोनों सही हैं, लेकिन R, A की सही व्याख्या नहीं है।

(E) अनुत्तरित प्रश्न

94. नीचे दो कथन दिए गए हैं: एक अभिकथन A (Assertion A) के रूप में लिखित है तो दूसरा उसके कारण R (Reason R) के रूप में;

अभिकथन A :

परियोजना कार्य (प्रोजेक्ट वर्क) स्वयं करके और जी कर सीखने (अधिगम) के उपागम को अपनाता है।

कारण R :

परियोजना कार्य अध्ययन का एक नियोजित अंश हैं जिसमें शिक्षार्थी द्वारा किए जाने वाला कार्य में कक्षा और प्रयोगशाला अधिगम का अनुप्रयोग करता है और उसका पूरक होता है।

उपरोक्त कथनों के आलोक में, नीचे दिए गए विकल्पों में से सबसे उपयुक्त उत्तर का चयन कीजिए:

(A) A सही है लेकिन R सही नहीं है।

(B) A सही नहीं है लेकिन R सही है।

(C) A और R दोनों सही हैं और R, A की सही व्याख्या है।

(D) A और R दोनों सही हैं, लेकिन R, A की सही व्याख्या नहीं है।

(E) अनुत्तरित प्रश्न

95. नीचे दो कथन दिए गए हैं: एक अभिकथन A (Assertion A) के रूप में लिखित है तो दूसरा उसके कारण R (Reason R) के रूप में।

अभिकथन A :

शैक्षिक मनोवैज्ञानिक व्यक्तियों को शैक्षिक और कार्य दशा दोनों में प्रशिक्षित करने के लिए उपयोग की जाने वाली निर्देशात्मक विधियों को विकसित करने में सहायता करते हैं।

कारण R :

शैक्षिक मनोवैज्ञानिकों का सरोकार शिक्षा, उपबोधन और अधिगम की समस्याओं के लिए सार्थक पक्षों के अनुसंधानों से भी होता है।

उपरोक्त कथनों के आलोक में, नीचे दिए गए विकल्पों में से सबसे उपयुक्त उत्तर का चयन कीजिए:

(A) A सही है लेकिन R सही नहीं है।

(B) A सही नहीं है लेकिन R सही है।

(C) A और R दोनों सही हैं और R, A की सही व्याख्या है।

(D) A और R दोनों सही हैं, लेकिन R, A की सही व्याख्या नहीं है।

(E) अनुत्तरित प्रश्न

96. गणित में एक इकाई योजना न्यूनतम ..... दिनों की अवधि से एक सप्ताह अथवा एक माह तक विस्तारित हो सकती है।

(a) 2-3 दिन

(b) 4-5 दिन

(c) 5-6 दिन

(d) 6-7 दिन

नीचे दिए गए विकल्पों में से सबसे उपयुक्त उत्तर चुनें:

(A) केवल (c)

(B) केवल (d)

(C) केवल (a)

(D) केवल (b)

(E) अनुत्तरित प्रश्न

97. निम्नलिखित घटनाओं को कालक्रमानुसार (पुराने से नए) व्यवस्थित करें:

(A) भारत में मारवाड़ियों जैसे नवीन व्यवसाय समुदायों का विकास।

(B) भारत में जाति आधारित बाजारों और व्यापार नेटवर्कों का उभार।

(C) भारत में बीपाओं (BPOs) (व्यवसाय प्रक्रिया आउटसोर्सिंग) का आगमन।

## REET LEVEL-1 (17.1.26) – Answer Key

(D) जजमानी प्रणाली में वस्तु-विनिमय अर्थव्यवस्था।

नीचे दिए गए विकल्पों में से सबसे उपयुक्त उत्तर चुनें:

(A) (b), (d), (c), (a)

**(B) (b), (d), (a), (c)**

(C) (b), (a), (d), (c)

(D) (d), (b), (a), (c)

(E) अनुत्तरित प्रश्न

98. नीचे दो कथन दिए गए हैं: एक अभिकथन A (Assertion A) के रूप में लिखित हैं तो दूसरा उसके कारण R (Reason R) के रूप में।

अभिकथन A :

अधिगम एक अनुमानित प्रक्रिया है और निष्पादन से भिन्न है।

कारण R :

निष्पादन व्यक्ति की प्रेक्षित अनुक्रिया या क्रिया है और ये व्यवहार में स्थायी प्रकृति का परिवर्तन नहीं है।

उपरोक्त कथनों के आलोक में, नीचे दिए गए विकल्पों में से सबसे उपयुक्त उत्तर का चयन कीजिए:

**(A) A सही है लेकिन R सही नहीं है।**

(B) A सही नहीं है लेकिन R सही है।

(C) A और R दोनों सही हैं और R A की सही व्याख्या है।

(D) A और R दोनों सही हैं, लेकिन R, A की सही व्याख्या नहीं है।

(E) अनुत्तरित प्रश्न

99. गणित में अचर कितने प्राथमिक रूपों में विद्यमान होते हैं ?

(A) चार

(B) पांच

**(C) दो**

(D) तीन

(E) अनुत्तरित प्रश्न

100. सूची I को सूची II से सुमेलित करें :

सूची I	सूची II
(प्रतिवर्त)	(विकासात्मक क्रम)
(A) रूटिंग	(i) 3 से 6 माह में विलुप्त हो जाते हैं
(B) मोरो	(ii) 6 से 7 माह में विलुप्त हो जाते हैं
(C) पकड़ना	(iii) 3 से 4 माह में विलुप्त हो जाते हैं
(D) बेबिन्स्की	(iv) 8 से 12 माह में विलुप्त हो जाते हैं

नीचे दिए गए विकल्पों में से सबसे उपयुक्त उत्तर चुनें:

(A) (a)-(i), (b)-(iv), (c)-(iii), (d)-(ii)


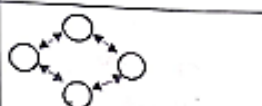

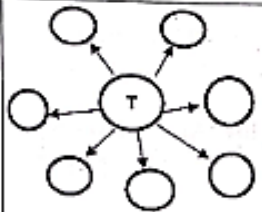
(B) (a)-(ii), (b)-(i), (c)-(iii), (d)-(iv)

**(C) (a)-(i), (b)-(ii), (c)-(iii), (d)-(iv)**

(D) (a)-(i), (b)-(iii), (c)-(ii), (d)-(iv)

(E) अनुत्तरित प्रश्न

101. सूची I को सूची II से सुमेलित करें : सूची I

सूची I	सूची II
(a) एक से एक युग्मन	(i) 
(b) समूह के अंदर	(ii) 
(c) समूह में	(iii) 
(d) आरंभक के रूप में शिक्षक	(iv) 

नीचे दिए गए विकल्पों में से सबसे उपयुक्त उत्तर चुनें:

(A) (a)-(iv), (b)-(i), (c)-(iii), (d)-(ii)

(B) (a)-(iv), (b)-(i), (c)-(ii), (d)-(iii)

**(C) (a)-(i), (b)-(ii), (c)-(iii), (d)-(iv)**

(D) (a)-(ii), (b)-(iii), (c)-(i), (d)-(iv)

(E) अनुत्तरित प्रश्न

102. "समाजशास्त्रीय कल्पना" क्या है ?

(A) समाजशास्त्र और अन्य समाज विज्ञानों के बीच संबंध समझने की योग्यता।

(B) समाजशास्त्रीय रूप से प्रासंगिक शोध विषय सृजित करने की योग्यता।

(C) सामाजिक यथार्थ को समझने के लिए अमूर्त विचारों का उपयोग करने की योग्यता।

**(D) "व्यक्तिगत समस्याओं" और "सार्वजनिक मुद्दों" के बीच संबंधों को समझने की योग्यता।**

(E) अनुत्तरित प्रश्न

## REET LEVEL-1 (17.1.26) – Answer Key

103. सृजनात्मक परीक्षणों को विकसित करने वाले कुछ प्रसिद्ध मनोवैज्ञानिक हैं-

- (A) टोर्सेस
- (B) परमेश
- (C) गिलफोर्ड
- (D) कोहलबर्ग

नीचे दिए गए विकल्पों में से सबसे उपयुक्त उत्तर का चयन कीजिए:

- (A) केवल (b), (c), (d)
- (B) केवल (a), (b), (d)
- (C) केवल (a), (b), (c)
- (D) केवल (a), (c), (d)
- (E) अनुत्तरित प्रश्न

104. सूची I को सूची II से सुमेलित करें :

सूची I	सूची II
(मूल्य/गुण)	(परिणाम)
(A) धैर्य	(i) आंकड़ों को एकत्रित और रिकॉर्ड करने में
(B) अध्यवसाय/दृढ़ता	(ii) उपकरणों को साझा करने की तत्परता
(C) सहयोग	(iii) पुनरावर्ती रूप से परीक्षणों को करते रहना जब तक परिणाम प्राप्त नहीं हो जाते हैं।
(D) निष्ठा/ईमानदारी	(iv) परीक्षणों के परिणामों की प्रतीक्षा करने में

नीचे दिए गए विकल्पों में से सबसे उपयुक्त उत्तर चुनें:

- (A) (a)-(iv), (b)-(ii), (c)-(iii), (d)-(i)
- (B) (a)-(iv), (b)-(iii), (c)-(ii), (d)-(i)
- (C) (a)-(i), (b)-(iv), (c)-(ii), (d)-(iii)
- (D) (a)-(iv), (b)-(i), (c)-(iii), (d)-(ii)
- (E) अनुत्तरित प्रश्न

105. सामान्य पब्लिक लाइसेंस कौनसे मुफ्त उपयोग सॉफ्टवेयर लाइसेंसों से अलग होते हैं ?

- (A) स्काइपे
- (B) एडोबी रीडर
- (C) रेनसम वेयर
- (D) उल्लंघन (इनफ्रिंजमेंट)

नीचे दिए गए विकल्पों में से सबसे उपयुक्त उत्तर चुनें:

- (A) केवल (b), (c)
- (B) केवल (c), (d)
- (C) केवल (a), (b)
- (D) केवल (a), (c)
- (E) अनुत्तरित प्रश्न

106. स्वस्थ आँखों के दृष्टिकोण से कम्प्यूटर के सामने बैठते समय सही दृश्यन (ब्यूटिंग) दूरी क्या है ?

- (A) 14-18 इंच
- (B) 19-24 इंच
- (C) 15-18 इंच
- (D) 13-17 इंच
- (E) अनुत्तरित प्रश्न

107. ज्ञान के सृजन की प्रक्रिया के रूप में विज्ञान के मुख्य चरण हैं-

- (A) प्रेक्षण/अवलोकन
- (B) परिकल्पना
- (C) परिकल्पना से पूर्वानुमान
- (D) परिकल्पना परीक्षण

नीचे दिए गए विकल्पों में से सबसे उपयुक्त उत्तर का चयन कीजिए:

- (A) (c), (d), (a), (b)
- (B) (c), (d), (b), (a)
- (C) (a), (b), (c), (d)
- (D) (a), (b), (d), (c)
- (E) अनुत्तरित प्रश्न

108. 12 वर्ष की मानसिक आयु वाले 10 वर्षीय बच्चे का बुद्धि लब्धि (आई. व्यू) स्तर क्या होता है ?

- (A) 120
- (B) 130
- (C) 83
- (D) 93
- (E) अनुत्तरित प्रश्न

109. सूची I को सूची II से सुमेलित करें :

सूची I (संकल्पना)	सूची II (व्याख्या)
(A) जाति प्रणाली	(i) धार्मिक पहचान के आधार पर आक्रामक व्यवहार

## REET LEVEL-1 (17.1.26) – Answer Key

- (B) जनसांख्यिकीय लाभांश (ii) सामाजिक स्तरीकरण की प्रणाली
- (C) सांप्रदायिकतावाद (iii) निवास प्रणाली जिसमें युगल/जोड़ा पति के माता-पिता के साथ रहता है
- (D) पितृस्थानिक परिवार (iv) एक विशाल कार्यशील - आयु जनसंख्या तथा अपेक्षाकृत कम वृद्ध जनसंख्या

नीचे दिए गए विकल्पों में से सबसे उपयुक्त उत्तर चुनें:

- (A) (a)-(ii), (b)-(iv), (c)-(i), (d)-(iii)
- (B) (a)-(ii), (b)-(iii), (c)-(i), (d)-(iv)
- (C) (a)-(ii), (b)-(i), (c)-(iv), (d)-(iii)
- (D) (a)-(i), (b)-(iv), (c)-(ii), (d)-(iii)
- (E) अनुत्तरित प्रश्न

110. नीचे दो कथन दिए गए हैं: एक अभिकथन A (Assertion A) के रूप में लिखित है तो दूसरा उसके कारण R (Reason R) के रूप में।

अभिकथन A :

रियल टाइम ऑपरेटिंग सिस्टम सुनिश्चित करते हैं कि प्रत्युत्तर समय नियत हो।

कारण R :

रियल टाइम ऑपरेटिंग सिस्टम उन एप्लिकेशन के लिए बने होते हैं, जिन्हें डाटा तेजी से संस्कृत/संसाधित करने की जरूरत होती है।

उपरोक्त कथनों के आलोक में, नीचे दिए गए विकल्पों में से सबसे उपयुक्त उत्तर का चयन कीजिए:

- (A) A सही है लेकिन R सही नहीं है।
- (B) A सही नहीं है लेकिन R सही है।
- (C) A और R दोनों सही हैं और R, A की सही व्याख्या है।
- (D) A और R दोनों सही हैं लेकिन R, A की सही व्याख्या नहीं है।
- (E) अनुत्तरित प्रश्न

111. विभिन्न मनोवैज्ञानिकों द्वारा दी गई बुद्धि की परिभाषा को कालानुक्रमिक रूप से निम्न प्रकार से व्यवस्थित किया जा सकता है-

- (A) साइरिल बर्ट
- (B) डेविड वैक्सलर
- (C) एल्फ्रेड बाइनेट

(D) लॉयड हम्फ्रेज

नीचे दिए गए विकल्पों में से सबसे उपयुक्त उत्तर का चयन कीजिए:

- (A) (c), (a), (b), (d)
- (B) (c), (b), (a), (d)
- (C) (a), (b), (c), (d)
- (D) (c) (d), (a), (b)
- (E) अनुत्तरित प्रश्न

112. विपरीतार्थी प्रवृत्तियों के संदर्भ में मूल विशेषकों को जानने के लिए रेमंड कैटेल द्वारा कौन सा परीक्षण विकसित किया गया था ?

- (A) 12 व्यक्तित्व कारक प्रश्नावली
- (B) 10 व्यक्तित्व कारक प्रश्नावली
- (C) 16 व्यक्तित्व कारक प्रश्नावली
- (D) 14 व्यक्तित्व कारक प्रश्नावली
- (E) अनुत्तरित प्रश्न

113. निम्नलिखित में से कौन सा पद (कैप्शन) सामाजिक लांछन (सोशल स्टिग्मा) को प्रदर्शित करता है और किसी विद्यार्थी को सीखाना, पाठ्यपुस्तक उपलब्धता में क्रमिक हिनता/कमियों के लिए प्रताड़ित करता है ?

- (A) औसत से कम
- (B) औसत
- (C) फेल/असफल
- (D) पास/सफल
- (E) अनुत्तरित प्रश्न

114. अधिगम अशक्तता वाले बच्चे निम्नलिखित बोधात्मक विकार प्रदर्शित करते हैं-

- (A) दृष्टि संबन्धी
- (B) श्रवण संबन्धी
- (C) गतिबोधात्मक
- (D) अति सक्रियता

नीचे दिए गए विकल्पों में से सबसे उपयुक्त उत्तर का चयन कीजिए:

- (A) केवल (a), (b), (d)
- (B) केवल (b), (c)
- (C) केवल (a), (b), (c)
- (D) केवल (b), (c), (d)
- (E) अनुत्तरित प्रश्न

## REET LEVEL-1 (17.1.26) – Answer Key

115. नीचे दो कथन दिए गए हैं : एक अभिकथन A (Assertion A) के रूप में लिखित है तो दूसरा उसके कारण R (Reason R) के रूप में।

अभिकथन A :

लोकल एरिया नेटवर्क, प्राइवेट नेटवर्क है तथा 1 किमी तक की परिधि में विस्तृत होते हैं।

कारण R :

लोकल एरिया नेटवर्क 7 Mbps से 70 Mbps की रेंज में विद्यमान स्पीड पर संचालित होते हैं।

उपरोक्त कथनों के आलोक में, नीचे दिए गए विकल्पों में से सबसे उपयुक्त उत्तर का चयन कीजिए:

(A) A सही है लेकिन R सही नहीं है।

(B) A सही नहीं है लेकिन R सही है।

(C) A और R दोनों सही हैं और R, A की सही व्याख्या है।

(D) A और R दोनों सही हैं लेकिन R, A की सही व्याख्या नहीं है।

(E) अनुत्तरित प्रश्न

116. नीचे दो कथन दिए गए हैं: एक अभिकथन A (Assertion A) के रूप में लिखित है तो दूसरा उसके कारण (Reason R) के रूप में।

अभिकथन A :

अलगाववाद, पूंजीवादी कारखाना आधारित उत्पादन का परिणाम है।

कारण R :

उत्पादन पूंजीवाद में वस्तुओं के उत्पादन ने सामाजिक संबंधों को बदल दिया है।

उपरोक्त कथनों के आलोक में, नीचे दिए गए विकल्पों में से सबसे उपयुक्त उत्तर का चयन कीजिए:

(A) A सही है लेकिन R सही नहीं है।

(B) A सही नहीं है लेकिन R सही है।

(C) A और R दोनों सही हैं और R, A की सही व्याख्या है।

(D) A और R दोनों सही हैं लेकिन R, A की सही व्याख्या नहीं है।

(E) अनुत्तरित प्रश्न

117. सूची I को सूची II से सुमेलित करें :

सूची I

सूची II

(आयु)

(संज्ञानात्मक विकास की अवस्था)

(A) 0-2 वर्ष

(i) संवेदी प्रेरक

(B) 2-7 वर्ष

(ii) पूर्व संक्रियात्मक

(C) 7-11-वर्ष (iii) मूर्त संक्रियात्मक

(D) 11-15 वर्ष (iv) औपचारिक संक्रियात्मक

नीचे दिए गए विकल्पों में से सबसे उपयुक्त उत्तर चुनें:

(A) (a)-(i), (b)-(iii), (c)-(iv), (d)-(ii)

(B) (a)-(i), (b)-(ii), (c)-(iii), (d)-(iv)

(C) (a)-(ii), (b)-(i), (c)-(iii), (d)-(iv)

(D) (a)-(i), (b)-(iv), (c)-(iii), (d)-(ii)

(E) अनुत्तरित प्रश्न

118. मानदूरा के अधिगम का सामाजिक संज्ञानात्मक सिद्धान्त के अनुसार प्रेक्षणात्मक अधिगम के क्रम से निम्नलिखित चरण हैं-

(A) उत्पादन (प्रोडक्शन)

(B) अभिप्रेरणा (मोटीवेशन)

(C) धारण (रिटेंशन)

(D) ध्यान देना (अटेंशन)

नीचे दिए गए विकल्पों में से सबसे उपयुक्त उत्तर का चयन कीजिए:

(A) (a), (b), (c), (d)

(B) (b), (a), (c), (d)

(C) (d), (c), (b), (a)

(D) (c), (d), (b), (a)

(E) अनुत्तरित प्रश्न

119. सूची I को सूची II से सुमेलित करें :

सूची I

सूची II

(A) कम्प्यूटर एडेड डिजाइन (i) ऑटोकैड

(B) वैश्विक स्थानिकीकरण प्रणाली (ii) उपग्रह आधारित नौगम्यन प्रणाली

(C) भौगोलिक सूचना प्रणाली (iii) भौगोलिकीय संदर्भित सूचना

(D) प्रक्रिया प्रबंधन प्रणाली (iv) टेली

नीचे दिए गए विकल्पों में से सबसे उपयुक्त उत्तर चुनें:

(A) (a)-(iii), (b)-(i), (c)-(ii), (d)-(iv)

(B) (a)-(iii), (b)-(ii), (c)-(i), (d)-(iv)

(C) (a)-(i), (b)-(ii), (c)-(iii), (d)-(iv)

(D) (a)-(ii), (b)-(i), (c)-(iii), (d)-(iv)

(E) अनुत्तरित प्रश्न

120. कान में कौनसा आभूषण पहना जाता है/था ?

(A) मोकड़ी

## REET LEVEL-1 (17.1.26) – Answer Key

- (B) दामणा  
(C) बजट्टी/बजति  
(D) पीपलपत्र  
(E) अनुत्तरित प्रश्न

121. निम्नलिखित कथनों पर विचार करें :

- (A) सरिस्का बाघ रिजर्व अजमेर में स्थित है।  
(B) इसे 1 नवंबर 1955 में अभयारण्य का दर्जा दिया गया था।  
(C) इसे 1978-1979 में बाघ रिजर्व का दर्जा दिया गया था।  
(D) पुष्कर झील इस रिजर्व का अन्य आकर्षण है।  
(E) इसका वन क्षेत्र लगभग 1213 वर्ग किमी. में विस्तृत है।

नीचे दिए गए विकल्पों में से सबसे उपयुक्त उत्तर चुनें:

- (A) केवल (b), (c) और (e)  
(B) केवल (c), (d) और (e)  
(C) केवल (a), (b) और (c)  
(D) केवल (b), (c) और (d)  
(E) अनुत्तरित प्रश्न

122. सूची I को सूची II से सुमेलित करें:

सूची I	सूची II
(विद्युत संयंत्र)	(लगभग क्षमता)
(A) धौलपुर संयुक्त चक्र विद्युत स्टेशन	(i) 172 MW
(B) राणा प्रताप सागर बांध	(ii) 1180 MW
(C) राजस्थान परमाणु विद्युत स्टेशन-रावतभाटा	(iii) 330 MW
(D) नोख सौर पार्क	(iv) 980 MW

नीचे दिए गए विकल्पों में से सबसे उपयुक्त उत्तर चुनें:

- (A) (a)-(ii), (b)-(i), (c)-(ii), (d)-(iv)  
(B) (a)-(iv), (b)-(iii), (c)-(ii), (d)-(i)  
(C) (a)-(i), (b)-(iii), (c)-(ii), (d)-(iv)  
(D) (a)-(i), (b)-(ii), (c)-(iii), (d)-(iv)  
(E) अनुत्तरित प्रश्न

123. राजस्थान की निम्नलिखित योजनाओं/परियोजनाओं को कालक्रमानुसार व्यवस्थित करें:

- (A) प्रोजेक्ट ग्रेट इण्डियन बस्टर्ड  
(B) प्रोजेक्ट टायगर  
(C) जनता वन योजना  
(D) अमृता देवी बिशनोई स्मृती पुरस्कार

नीचे दिए गए विकल्पों में से सबसे उपयुक्त उत्तर चुनें:

- (A) (c), (d), (b), (a)  
(B) (c), (d), (a), (b)  
(C) (a), (b), (c), (d)  
(D) (b), (c), (d), (a)  
(E) अनुत्तरित प्रश्न

124. निम्नलिखित को राजस्थान सरकार द्वारा राज्य प्रतीकों के रूप में घोषित किया गया है। इन्हें कालक्रमानुसार व्यवस्थित करें:

- (A) ऊँट  
(B) चिंकारा  
(C) रोहिड़ा  
(D) बास्केटबॉल

नीचे दिए गए विकल्पों में से सबसे उपयुक्त उत्तर चुनें:

- (A) (a), (b), (c), (d)  
(B) (b), (c), (d), (a)  
(C) (d), (b), (a), (c)  
(D) (d), (b), (c), (a)  
(E) अनुत्तरित प्रश्न

125. सूची I को सूची II से सुमेलित करें :

सूची I	सूची II
(A) राजपूताना का कर्ण	(i) राव लूणकरण
(B) कलियुग का कर्ण	(ii) राव करण सिंह
(C) कविबोधव	(iii) राव राय सिंह
(D) जांगलधर बादशाह	(iv) विग्रहराज IV

नीचे दिए गए विकल्पों में से सबसे उपयुक्त उत्तर चुनें:

- (A) (a)-(ii), (b)-(i), (c)-(iv), (d)-(ii)  
(B) (a)-(iv), (b)-(iii), (c)-(ii), (d)-(i)  
(C) (a)-(iii), (b)-(ii), (c)-(i), (d)-(iv)  
(D) (a)-(ii), (b)-(iii), (c)-(i), (d)-(iv)  
(E) अनुत्तरित प्रश्न



## REET LEVEL-1 (17.1.26) – Answer Key

126. लवणीय झील सांभर किस नदी से जल प्राप्त करती है?

(A) रूपनगढ़

(B) फलौदी

(C) साबी

(D) लूणी

(E) अनुत्तरित प्रश्न

127. किस स्थल से प्राप्त लौह पात्र और उपकरण भारत में लौह युग के प्रादुर्भाव की तारीख नियत करने का महत्वपूर्ण स्रोत हैं ?

नीचे दिए गए विकल्पों में से सबसे उपयुक्त उत्तर चुनें:

(A) गिलुंड (राजसमंद)

(B) झाड़ोल (उदयपुर)

(C) नोह (भरतपुर)

(D) पिंड-पाडलिया (चित्तौड़)

(E) अनुत्तरित प्रश्न

128. निम्नलिखित को कालक्रमानुसार व्यवस्थित करें।

(A) निःशुल्क और अनिवार्य शिक्षा अधिकार अधिनियम।

(B) राजस्थान बालकों को निःशुल्क और अनिवार्य शिक्षा नियम।

(C) आरटीई अधिनियम का क्रियान्वयन।

(D) स्वतंत्र भारत की प्रथम राष्ट्रीय पाठ्यचर्या रूपरेखा।

नीचे दिए गए विकल्पों में से सबसे उपयुक्त उत्तर चुनें:

(A) (a), (d), (c), (b)

(B) (a), (d), (b), (c)

(C) (d), (a), (c), (b)

(D) (d), (a), (b), (c)

(E) अनुत्तरित प्रश्न

129. सूची I को सूची II से सुमेलित करें :

सूची I

सूची II

(A) एकलव्य पुरस्कार

(i) 5000 रूपए

(B) इंस्पायर पुरस्कार

(ii) 51000 रूपए

(C) विद्यार्थी खेल रत्न पुरस्कार

(iii) नियत नहीं

(D) गार्गी पुरस्कार योजना

(iv) प्रति वर्ष 3000 रूपए

नीचे दिए गए विकल्पों में से सबसे उपयुक्त उत्तर चुनें:

(A) (a)-(iii) (b)-(i), (c)-(ii), (d)-(iv)

(B) (a)-(iv), (b)-(iii), (c)-(i), (d)-(ii)

(C) (a)-(iii), (b)-(ii), (c)-(i), (d)-(iv)

(D) (a)-(iv), (b)-(iii), (c)-(ii), (d)-(i)

(E) अनुत्तरित प्रश्न

130. सूची I को सूची II से सुमेलित करें :

सूची I

सूची II

(विभाग)

(योजना)

(A) सामाजिक न्याय और अधिकारिता

(i) घर-घर औषधि योजना

(B) स्थानीय स्व-शासन

(ii) इंदिरा रसोई योजना

(C) वन विभाग

(iii) जन आधार योजना

(D) योजना विभाग

(iv) पालनहार योजना

नीचे दिए गए विकल्पों में से सबसे उपयुक्त उत्तर चुनें:

(A) (a)-(iv), (b)-(ii), (c)-(iii), (d)-(i)

(B) (a)-(iv), (b)-(ii), (c)-(i), (d)-(iii)

(C) (a)-(iii), (b)-(iv), (c)-(i), (d)-(ii)

(D) (a)-(iv), (b)-(i), (c)-(ii), (d)-(iii)

(E) अनुत्तरित प्रश्न

131. राजस्थान की ज्योति योजना के अंतर्गत :

(A) उन महिलाओं को रोजगार में प्राथमिकता दी जाएगी जिनका कोई लड़का नहीं हो और 1-2 लड़कियाँ हो तथा नसबंदी करवा ली हो।

(B) राजस्थान सरकार शिक्षा के लिए सहायता करेगी।

(C) सरकारी चिकित्सालयों में निःशुल्क उपचार।

(D) यह योजना सामाजिक न्याय और अधिकारिता मंत्रालय द्वारा क्रियान्वित है।

नीचे दिए गए विकल्पों में से सबसे उपयुक्त उत्तर चुनें:

(A) केवल (a), (b) और (c)

(B) (a), (b), (c) और (d)

(C) केवल (a) और (b)

(D) केवल (b) और (c)

(E) अनुत्तरित प्रश्न

132. राजस्थान की विश्वास योजना :-

(A) स्वास्थ्य और परिवार कल्याण विभाग द्वारा क्रियान्वयन।

(B) ऋण का 50% अथवा अधिकतम 50,000 रूपए जो भी कम हो, प्रदान किया जायेगा।

(C) यह योजना दिव्यांग पुरुषों/महिलाओं के लिए है।

## REET LEVEL-1 (17.1.26) – Answer Key

(D) अधिकतम 5 लाख रुपये तक ऋण दिव्यांगजनों को दिया जा रहा है।

(E) अर्हता के लिए, मासिक आय 1000 रुपए प्रति माह से अधिक नहीं होनी चाहिए।

नीचे दिए गए विकल्पों में से सबसे उपयुक्त उत्तर चुनें:

(A) केवल (c), (d) और (e)

(B) केवल (a) और (e)

(C) केवल (a), (b) और (c)

**(D) केवल (b), (c) और (d)**

(E) अनुत्तरित प्रश्न

133. उभरता राजस्थान वैश्विक निवेश सम्मेलन -

(A) 9, 10 और 11 दिसंबर 2024 को आयोजित किया गया था।

(B) यह जयपुर प्रदर्शनी सम्मेलन केन्द्र में आयोजित किया गया था।

(C) सम्मेलन केन्द्र सांगानेर, जयपुर में है।

(D) तीन दिवसीय सम्मेलन में विषयात्मक सत्र, राष्ट्र सत्र और वैयक्तिक व्यवसायिक बैठकें हुई थीं।

नीचे दिए गए विकल्पों में से सबसे उपयुक्त उत्तर चुनें:

(A) केवल (a), (b) और (d)

(B) केवल (a) और (b)

**(C) केवल (a), (b) और (c)**

(D) केवल (b), (c) और (d)

(E) अनुत्तरित प्रश्न

134. राजस्थान, भारत के उत्तर-पश्चिम में स्थित है। इसका आकार कैसा है?

नीचे दिए गए विकल्पों में से सबसे उपयुक्त उत्तर चुनें:

(A) प्लेट की तरह

(B) प्याला की तरह

(C) गेंद की तरह

**(D) पतंग की तरह**

(E) अनुत्तरित प्रश्न

135. स्थापना वर्ष के अनुसार निम्नलिखित को कालक्रम से व्यवस्थित करें:

(A) शुष्क वन अनुसंधान संस्थान, जोधपुर

(B) केन्द्रीय ऊन विकास बोर्ड, जोधपुर

(C) केन्द्रीय कृषि फार्म, गंगानगर

(D) भेड़-प्रजनन केन्द्र, सीकर

नीचे दिए गए विकल्पों में से सबसे उपयुक्त उत्तर चुनें:

(A) (a), (b), (c), (d)

(B) (d), (b), (c), (a)

**(C) (c) (d), (b), (a)**

(D) (b), (d), (c), (a)

(E) अनुत्तरित प्रश्न

136. प्रख्यात पत्रकार कर्पूरचंद कुलिश के कार्य हैं:

(A) उन्होंने अग्रणी हिन्दी दैनिक "राजस्थान पत्रिका" शुरू किया।

(B) उन्होंने राजस्थान के ग्रामीण जीवन और समाज पर "मैं देखता चला गया" श्रृंखला शुरू की।

(C) उन्होंने रामचंद्र के साथ मिलकर जयपुर फुट का सह-आविष्कार किया था।

(D) उन्होंने ढूंढाड़ी बोली में नियमित स्तंभ पोलमपोल में योगदान दिया।

नीचे दिए गए विकल्पों में से सबसे उपयुक्त उत्तर चुनें:

**(A) केवल (a), (b) और (d)**

(B) केवल (b), (c) और (d)

(C) केवल (a) और (b)

(D) केवल (a), (b) और (c)

(E) अनुत्तरित प्रश्न

137. सूची I को सूची II से सुमेलित करें :

सूची I

सूची II

(खेल)

(राजस्थान के खिलाड़ी)

(A) क्रिकेट

(i) प्रभाकर राजू

(B) हॉकी

(ii) प्रवीण आमरे

(C) व्हॉलीबॉल

(iii) लिम्बाराम

(D) तीरंदाजी

(iv) गंगोत्री भंडारी

नीचे दिए गए विकल्पों में से सबसे उपयुक्त उत्तर चुनें:

(A) (a)-(iii), (b)-(iv), (c)-(ii), (d)-(i)

(B) (a)-(i), (b)-(ii), (c)-(iii), (d)-(iv)

(C) (a)-(i), (b)-(iv), (c)-(ii), (d)-(iii)

**(D) (a)-(ii), (b)-(iv), (c)-(i), (d)-(iii)**

(E) अनुत्तरित प्रश्न

138. सूची I को सूची II से सुमेलित करें :

सूची I

सूची II

(A) दिव्यांगजन (समान अवसर,

(i) 1971

संरक्षण और पूर्ण भागीदारी)

## REET LEVEL-1 (17.1.26) – Answer Key

- अधिनियम  
(B) राजस्थान गैर-सरकारी (ii) 2008  
शैक्षणिक संस्थान अधिनियम  
(C) राजस्थान पंचायती राज (iii) 1989  
प्रबोधक सेवा नियम  
(D) राजस्थान शैक्षणिक (iv) 1996  
अधीनस्थ सेवा नियम
- नीचे दिए गए विकल्पों में से सबसे उपयुक्त उत्तर चुनें:  
(A) (a)-(iii), (b)-(iv), (c)-(i), (d)-(ii)  
**(B) (a)-(iv), (b)-(iii), (c)-(ii), (d)-(i)**  
(C) (a)-(iv), (b)-(ii), (c)-(iii), (d)-(i)  
(D) (a)-(iii), (b)-(iv), (c)-(ii), (d)-(i)  
(E) अनुत्तरित प्रश्न
139. भीलवाड़ा जिला में शाहपुरा का जोशी परिवार किस लोक कला का परंपरागत कलाकार रहा है?  
(A) सांझी  
(B) कवड़  
(C) मांडणा  
**(D) फड़**  
(E) अनुत्तरित प्रश्न
140. भीनमाल (जालौर) से संबंधित तथा 'शिशुपाल वध' के लेखक/कवि का नाम बताएँ।  
(A) सोमदेव  
(B) कालिदास  
**(C) माघ**  
(D) उद्योतन सूरी  
(E) अनुत्तरित प्रश्न
141. संगीत उपकरण पूंजी किस जनजाति द्वारा मुख्यतः प्रयुक्त होती है?  
नीचे दिए गए विकल्पों में से सबसे उपयुक्त उत्तर चुनें:  
(A) मीणा  
(B) सहरिया  
(C) भील  
**(D) कालबेलिया**  
(E) अनुत्तरित प्रश्न
142. सूची I को सूची II से सुमेलित करें :  
सूची I सूची II

- (A) भामाशाह योजना (i) 2015-16  
(B) देवनारायण स्कूटी एवं (ii) 2021  
प्रोत्साहन योजना  
(C) अंबेडकर छात्रवृत्ति (iii) 2014-15  
योजना  
(D) मुख्यमंत्री हमारी बेटियाँ (iv) 2011-12  
योजना
- नीचे दिए गए विकल्पों में से सबसे उपयुक्त उत्तर चुनें:  
(A) (a)-(iv), (b)-(i), (c)-(iii), (d)-(ii)  
(B) (a)-(iii), (b)-(i), (c)-(iv), (d)-(ii)  
**(C) (a)-(iii), (b)-(iv), (c)-(ii), (d)-(i)**  
(D) (a)-(iv), (b)-(iii), (c)-(i), (d)-(ii)  
(E) अनुत्तरित प्रश्न
143. सूची I को सूची II से सुमेलित करें :  
सूची I सूची II  
(देश-राज्य) (राजस्थान की सीमा)  
(A) पाकिस्तान (i) दक्षिण  
(B) मध्यप्रदेश (ii) पूर्व  
(C) पंजाब (iii) उत्तर  
(D) गुजरात (iv) उत्तर-पश्चिम
- नीचे दिए गए विकल्पों में से सबसे उपयुक्त उत्तर चुनें:  
**(A) (a)-(iv), (b)-(ii), (c)-(iii), (d)-(i)**  
(B) (a)-(iv), (b)-(i), (c)-(ii), (d)-(iii)  
(C) (a)-(i), (b)-(ii), (c)-(iii), (d)-(iv)  
(D) (a)-(iv), (b)-(iii), (c)-(ii), (d)-(i)  
(E) अनुत्तरित प्रश्न
144. सूची I को सूची II से सुमेलित करें :  
सूची I सूची II  
(शोध संस्थान) (स्थान)  
(A) केन्द्रीय शुष्क क्षेत्र (i) जोधपुर  
अनुसंधान संस्थान  
(B) केन्द्रीय भेड़ और ऊन (ii) जयपुर  
अनुसंधान संस्थान  
(C) भेड़ और ऊन प्रशिक्षण (iii) अविक्कानगर  
संस्थान  
(D) केन्द्रीय सरसों (iv) सेवर  
अनुसंधान संस्थान
- नीचे दिए गए विकल्पों में से सबसे उपयुक्त उत्तर चुनें:  
(A) (a)-(i), (b)-(ii), (c)-(iii), (d)-(iv)

## REET LEVEL-1 (17.1.26) – Answer Key

(B) (a)-(iv), (b)-(iii), (c)-(ii), (d)-(i)

(C) (a)-(i), (b)-(iii), (c)-(ii), (d)-(iv)

(D) (a)-(i), (b)-(iv), (c)-(iii), (d)-(ii)

(E) अनुत्तरित प्रश्न

145. सूची I को सूची II से सुमेलित करें :

सूची I

सूची II

(मृदा)

(अभिलक्षण)

(A) नवीन जलोढ़ मृदा

(i) नाइट्रोजन और पोटेश की कमी

(B) काली मिट्टी

(ii) खादर

(C) लेटेराइट मिट्टी

(iii) कंकड़ और पत्थर

(D) पर्वतीय मिट्टी

(iv) पोटेश और लाइम (चूने) की प्रचुरता

नीचे दिए गए विकल्पों में से सबसे उपयुक्त उत्तर चुनें:

(A) (a)-(iv), (b)-(iii), (c)-(ii), (d)-(i)

(B) (a)-(ii), (b)-(iv), (c)-(iii), (d)-(i)

(C) (a)-(ii), (b)-(iv), (c)-(i), (d)-(iii)

(D) (a)-(i), (b)-(ii), (c)-(iii), (d)-(iv)

(E) अनुत्तरित प्रश्न

146. नीचे दो कथन दिए गए हैं : एक अभिकथन A (Assertion A) के रूप में लिखित है तो दूसरा उसके कारण R (Reason R) के रूप में।

अभिकथन A :

निजी गैर-अनुदान प्राप्त संस्थानों को स्कूल प्रबंधन समिति के गठन से छूट प्राप्त है।

कारण R :

अतः, आरटीई एक्ट में प्रावधान है कि माता-पिता स्कूल प्रबंधन समिति में बहुमत में होंगे, जिसमें स्कूल शिक्षक और निर्वाचित पंचायत सदस्य भी शामिल होंगे।

उपरोक्त कथनों के आलोक में, नीचे दिए गए विकल्पों में से सबसे उपयुक्त उत्तर का चयन कीजिए:

(A) A सही है लेकिन R सही नहीं है।

(B) A सही नहीं है लेकिन R सही है।

(C) A और R दोनों सही हैं और R, A की सही व्याख्या है।

(D) A और R दोनों सही हैं लेकिन R, A की सही व्याख्या नहीं है।

(E) अनुत्तरित प्रश्न

147. रामगढ़ भांड देवरा मंदिर की मुख्य विशेषताएं हैं:

(A) यह बारां शहर से 40 किमी दूर स्थित है।

(B) यह भगवान विष्णु को समर्पित है।

(C) इसे राजस्थान का लघु खजुराहो भी कहा जाता है।

(D) यह परवण नदी के किनारे स्थित है।

नीचे दिए गए विकल्पों में से सबसे उपयुक्त उत्तर चुनें:

(A) केवल (a) और (c)

(B) केवल (c) और (d)

(C) केवल (a) और (b)

(D) केवल (b) और (c)

(E) अनुत्तरित प्रश्न

148. नीचे दिए गए राजस्थान के संतों और लोक देवताओं को उनके जन्म वर्ष के आधार पर कालक्रमानुसार व्यवस्थित करें :

(A) पाबुजी

(B) पीपा

(C) दादू दयाल

(D) देवनारायणजी

नीचे दिए गए विकल्पों में से सबसे उपयुक्त उत्तर चुनें:

(A) (a), (c), (b), (d)

(B) (a), (b), (c), (d)

(C) (a), (d), (c), (b)

(D) (a), (d), (b), (c)

(E) अनुत्तरित प्रश्न

149. राजस्थान की 'साहित्य अकादमी' पुरस्कार प्राप्त साहित्यिक रचनाओं को कालक्रमानुसार व्यवस्थित करें :

(A) सुंदर नैन सुधा

(B) गयाड (उपन्यास)

(C) पग फेरो (कविता)

(D) बातां री फुलवारी खण्ड-X

नीचे दिए गए विकल्पों में से सबसे उपयुक्त उत्तर चुनें

(A) (c), (d), (a), (b)

(B) (d), (c), (a), (b)

(C) (a), (b), (c), (d)

(D) (b), (a), (c), (d)

(E) अनुत्तरित प्रश्न

150. मुख्यमंत्री अनुप्रति कोचिंग योजना किन परीक्षाओं की तैयारी कर रहे विद्यार्थियों को निःशुल्क कोचिंग प्रदान करती है ?

## REET LEVEL-1 (17.1.26) – Answer Key

(A) आर. ए. एस.

(B) आई.ए.एस.

(C) नीट

(D) खेल

(E) जे.ई.ई.

नीचे दिए गए विकल्पों में से सबसे उपयुक्त उत्तर चुनें:

(A) केवल (b), (c), (d), (e)

(B) केवल (a), (c), (d), (e)

**(C) केवल (a), (b), (c), (e)**

(D) केवल (a), (b), (c), (d)

(E) अनुत्तरित प्रश्न